

Name: _____ Klasse: _____

Minusaufgaben mit 0, 1 oder 2
Löse die Aufgaben und schreibe die Ergebnisse in die Lösungsfelder!
Suche dann rechts auf dem Kontrollbild die Lösungszahl! Verbinde jeweils die Aufgabennummer mit der zugehörigen Lösungszahl!

1	10-1 = ○	2	4-2 = ○
3	6-2 = ○	4	2-1 = ○
9	4-1 = ○	6	10-0 = ○
2	7-2 = ○	8	8-1 = ○
7	7-1 = ○	10	10-2 = ○
10	2-2 = ○	12	2-2 = ○

Kontrollbild

1 2 3 4 5 6 7 8 9 10 11 12 13 14 15 16 17 18 19 20

1 2 3 4 5 6 7 8 9 10 11 12 13 14 15 16 17 18 19 20

Name: _____ Klasse: _____

Minusaufgaben mit 0, 1 oder 2
Löse die Aufgaben und schreibe die Ergebnisse in die Lösungsfelder!
Suche dann rechts auf dem Kontrollbild die Lösungszahl! Verbinde jeweils die Aufgabennummer mit der zugehörigen Lösungszahl!

1	10-0 = ○	2	5-2 = ○
3	3-2 = ○	4	6-1 = ○
10	1-1 = ○	6	9-1 = ○
5	3-1 = ○	8	9-2 = ○
7	3-1 = ○	10	8-2 = ○
9	5-1 = ○	12	9-0 = ○

Kontrollbild


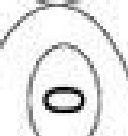
1 2 3 4 5 6 7 8 9 10 11 12 13 14 15 16 17 18 19 20

1 2 3 4 5 6 7 8 9 10 11 12 13 14 15 16 17 18 19 20

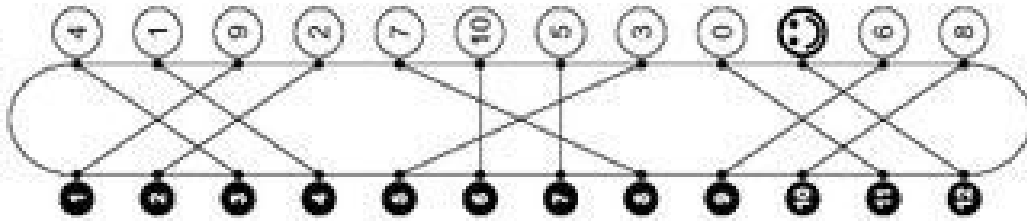
Klasse:

Minusaufgaben mit 0, 1 oder 2 (Lösung)

Löse die Aufgaben und schreibe die Ergebnisse in die Lösungsfelder!
Suche dann rechts auf dem Kontrollbild die Lösungszahl! Verbinde jeweils die Aufgabennummer mit der zugehörigen Lösungszahl!

1	$10-1=9$	9	$4-2=2$	2
2	$6-2=4$	4	$2-1=1$	1
3	$4-1=3$	3	$10-0=10$	10
4	$7-2=5$	5	$8-1=7$	7
5	$7-1=6$	6	$10-2=8$	8
6	$2-2=0$	0		

Kontrollbild





Name:

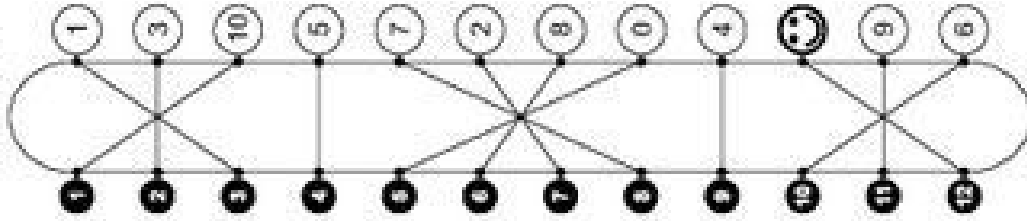
Klasse:

Minusaufgaben mit 0, 1 oder 2 (Lösung)

Löse die Aufgaben und schreibe die Ergebnisse in die Lösungsfelder!
Suche dann rechts auf dem Kontrollbild die Lösungszahl! Verbinde jeweils die Aufgabennummer mit der zugehörigen Lösungszahl!

1	$10-0=10$	10	$5-2=3$	3
2	$3-2=1$	1	$6-1=5$	5
3	$1-1=0$	0	$9-1=8$	8
4	$3-1=2$	2	$9-2=7$	7
5	$5-1=4$	4	$8-2=6$	6
6	$9-0=9$	9		


Kontrollbild




Name: _____ Klasse: _____

Plus- und Minusaufgaben mit 0, 1 oder 2

Löse die Aufgaben und schreibe die Ergebnisse in die Lösungsfelder!
 Suche dann unten auf dem Kontrollbild die Lösungszahl! Zeichne dort in die Feder die bei der Aufgabe angegebenen Symbole!

1	<input type="checkbox"/>	$4+2=$	<input type="checkbox"/>	$3-2=$	<input type="checkbox"/>	4
2	<input type="checkbox"/>	$4+2=$	<input type="checkbox"/>	$7+1=$	<input type="checkbox"/>	3
3	<input type="checkbox"/>	$6-1=$	<input type="checkbox"/>	$8+2=$	<input type="checkbox"/>	6
4	<input type="checkbox"/>	$7+2=$	<input type="checkbox"/>	$4-2=$	<input type="checkbox"/>	7
5	<input type="checkbox"/>	$6-1=$	<input type="checkbox"/>	$8+2=$	<input type="checkbox"/>	8
6	<input type="checkbox"/>	$7+2=$	<input type="checkbox"/>	$6+1=$	<input type="checkbox"/>	5
7	<input type="checkbox"/>	$7+2=$	<input type="checkbox"/>	$5-1=$	<input type="checkbox"/>	11
8	<input type="checkbox"/>	$2-2=$	<input type="checkbox"/>		<input type="checkbox"/>	12

Kontrollbild


1	4
8	2
5	6
	9

Male gleiche Symbole in den gleichen Farben aus!

Name: _____ Klasse: _____

Plus- und Minusaufgaben mit 0, 1 oder 2

Löse die Aufgaben und schreibe die Ergebnisse in die Lösungsfelder!
 Suche dann unten auf dem Kontrollbild die Lösungszahl! Zeichne dort in die Feder die bei der Aufgabe angegebenen Symbole!

1	<input type="checkbox"/>	$5+2=$	<input type="checkbox"/>	$1-1=$	<input type="checkbox"/>	2
2	<input type="checkbox"/>	$5+2=$	<input type="checkbox"/>	$8+1=$	<input type="checkbox"/>	3
3	<input type="checkbox"/>	$4-1=$	<input type="checkbox"/>	$5+1=$	<input type="checkbox"/>	6
4	<input type="checkbox"/>	$4-1=$	<input type="checkbox"/>	$4-2=$	<input type="checkbox"/>	7
5	<input type="checkbox"/>	$6+2=$	<input type="checkbox"/>	$9+1=$	<input type="checkbox"/>	8
6	<input type="checkbox"/>	$6+2=$	<input type="checkbox"/>	$6-2=$	<input type="checkbox"/>	11
7	<input type="checkbox"/>	$2-1=$	<input type="checkbox"/>		<input type="checkbox"/>	12

Kontrollbild

10	8
6	3
1	9
2	5

Male gleiche Symbole in den gleichen Farben aus!

Name: _____ Klasse: _____

Plus- und Minusaufgaben mit 0, 1 oder 2 (Lösung)
 Löse die Aufgaben und schreibe die Ergebnisse in die Lösungsfelder!
 Suche dann unten auf dem Kontrollbild die Lösungszahl! Zeichne dort in die Feder die bei der Aufgabe angegebenen Symbole!

1	<input type="checkbox"/>	$4+2=$ 6	2	<input type="checkbox"/>	$3-2=$ 1	3	<input type="checkbox"/>	$7+1=$ 8	4	<input type="checkbox"/>	$5-2=$ 3
5	<input type="checkbox"/>	$6-1=$ 5	6	<input type="checkbox"/>	$8+2=$ 10	7	<input type="checkbox"/>	$4-2=$ 2	8	<input type="checkbox"/>	$6+1=$ 7
9	<input type="checkbox"/>	$7+2=$ 9	9	<input type="checkbox"/>	$1-1=$ 0	10	<input type="checkbox"/>	$10-1=$ 9	11	<input type="checkbox"/>	$5-1=$ 4

Kontrollbild

1	4	8	10
0	2	6	3
7	9	5	1

Male gleiche Symbole in den gleichen Farben aus!

5 (L)

Name: _____ Klasse: _____

Plus- und Minusaufgaben mit 0, 1 oder 2 (Lösung)
 Löse die Aufgaben und schreibe die Ergebnisse in die Lösungsfelder!
 Suche dann unten auf dem Kontrollbild die Lösungszahl! Zeichne dort in die Feder die bei der Aufgabe angegebenen Symbole!

1	<input type="checkbox"/>	$5+2=$ 7	2	<input type="checkbox"/>	$1-1=$ 0	3	<input type="checkbox"/>	$8+1=$ 9	4	<input type="checkbox"/>	$7-2=$ 5
5	<input type="checkbox"/>	$4-1=$ 3	6	<input type="checkbox"/>	$5+1=$ 6	7	<input type="checkbox"/>	$4-2=$ 2	8	<input type="checkbox"/>	$9+1=$ 10
9	<input type="checkbox"/>	$6+2=$ 8	9	<input type="checkbox"/>	$6-2=$ 4	10	<input type="checkbox"/>	$2-1=$ 1	11	<input type="checkbox"/>	$6-2=$ 4

Kontrollbild

10	8	6	3
0	2	9	7
1	5	4	1

Male gleiche Symbole in den gleichen Farben aus!

6 (L)

Name:		Klasse:	
<p>Plusaufgaben bis 10 Löse die Aufgaben und schreibe die Ergebnisse in die Lösungsfelder! Suche dann rechts auf dem Kontrollbild die Lösungszahl! Male die Felder in den bei der Aufgabe angegebenen Farben aus!</p>			
<input type="checkbox"/> blau	$1+3=$ ○	<input checked="" type="checkbox"/> gelb	$2+4=$ ○
<input checked="" type="checkbox"/> rot	$0+0=$ ○	<input checked="" type="checkbox"/> blau	$0+2=$ ○
<input checked="" type="checkbox"/> gelb	$2+3=$ ○	<input checked="" type="checkbox"/> rot	
<input checked="" type="checkbox"/> blau	$+0=$ ○	<input checked="" type="checkbox"/> gelb	$4+4=$ ○
<input checked="" type="checkbox"/> rot	$+3=$ ○	<input checked="" type="checkbox"/> blau	$1+2=$ ○
<input checked="" type="checkbox"/> gelb	$+4=$ ○	<input checked="" type="checkbox"/> rot	$4+5=$ ○
Kontrollbild			

Name:		Klasse:	
<p>Plusaufgaben bis 10 Löse die Aufgaben und schreibe die Ergebnisse in die Lösungsfelder! Suche dann rechts auf dem Kontrollbild die Lösungszahl! Male die Felder in den bei der Aufgabe angegebenen Farben aus!</p>			
<input checked="" type="checkbox"/> blau	$1+1=$ ○	<input checked="" type="checkbox"/> gelb	$2+2=$ ○
<input checked="" type="checkbox"/> rot	$2+4=$ ○	<input checked="" type="checkbox"/> blau	$3+6=$ ○
<input checked="" type="checkbox"/> gelb	$0+1=$ ○	<input checked="" type="checkbox"/> rot	
<input checked="" type="checkbox"/> blau	$5+3=$ ○	<input checked="" type="checkbox"/> gelb	$6+4=$ ○
<input checked="" type="checkbox"/> rot	$1+4=$ ○	<input checked="" type="checkbox"/> blau	$0+0=$ ○
<input checked="" type="checkbox"/> gelb	$0+3=$ ○	<input checked="" type="checkbox"/> rot	$2+5=$ ○
Kontrollbild			

Name:	Klasse:
<h3>Plusaufgaben bis 10 (Lösung)</h3> <p>Löse die Aufgaben und schreibe die Ergebnisse in die Lösungsfelder! Suche dann rechts auf dem Kontrollbild die Lösungszahl! Male die Felder in den bei der Aufgabe angegebenen Farben aus!</p>	
<input checked="" type="radio"/> blau	<input checked="" type="radio"/> gelb
$1+3=4$ $2+4=6$	$0+0=0$ $0+2=2$
<input checked="" type="radio"/> rot	<input checked="" type="radio"/> blau
$2+3=5$	
<input checked="" type="radio"/> gelb	<input checked="" type="radio"/> rot
$+0=1$ $4+4=8$	$+3=10$ $1+2=3$
<input checked="" type="radio"/> blau	<input checked="" type="radio"/> gelb
$+4=7$ $4+5=9$	
<input checked="" type="radio"/> rot	<input checked="" type="radio"/> blau
<input checked="" type="radio"/> gelb	<input checked="" type="radio"/> rot
Kontrollbild	

Name:	Klasse:
<h3>Plusaufgaben bis 10 (Lösung)</h3> <p>Löse die Aufgaben und schreibe die Ergebnisse in die Lösungsfelder! Suche dann rechts auf dem Kontrollbild die Lösungszahl! Male die Felder in den bei der Aufgabe angegebenen Farben aus!</p>	
<input checked="" type="radio"/> blau	<input checked="" type="radio"/> gelb
$1+1=2$ $2+2=4$	$2+4=6$ $3+6=9$
<input checked="" type="radio"/> rot	<input checked="" type="radio"/> blau
$0+1=1$	
<input checked="" type="radio"/> gelb	<input checked="" type="radio"/> rot
$5+3=8$ $6+4=10$	$1+4=5$ $0+0=0$
<input checked="" type="radio"/> blau	<input checked="" type="radio"/> gelb
$0+3=3$ $2+5=7$	
<input checked="" type="radio"/> rot	<input checked="" type="radio"/> blau
<input checked="" type="radio"/> gelb	<input checked="" type="radio"/> rot
Kontrollbild	



Name: _____ Klasse: _____

Minusaufgaben bis 10

Löse die Aufgaben und schreibe die Ergebnisse in die Lösungsfelder!
Suche dann rechts auf dem Kontrollbild die Lösungszahl! Verbinde jeweils die Aufgabennummer mit der zugehörigen Lösungszahl!

1	$5-4=$	2	$8-3=$
3	$10-0=$	4	$9-1=$
5	$8-2=$	6	$7-5=$
7	$1-4=$	8	
9	$5-3=$	10	$10-1=$
11	$9-2=$	12	$9-5=$

Kontrollbild

1	10
2	5
3	1
4	2
5	0
6	8
7	6
8	9
9	7
10	
11	3
12	4

Name: _____ Klasse: _____

Minusaufgaben bis 10

Löse die Aufgaben und schreibe die Ergebnisse in die Lösungsfelder!
Suche dann rechts auf dem Kontrollbild die Lösungszahl! Verbinde jeweils die Aufgabennummer mit der zugehörigen Lösungszahl!

1	$6-4=$	2	$8-1=$
3	$10-5=$	4	$6-5=$
5	$9-0=$	6	$9-3=$
7	$7-4=$	8	
9	$5-5=$	10	$10-2=$
11	$8-4=$	12	$10-0=$

Kontrollbild

1	7
2	2
3	3
4	1
5	9
6	6
7	5
8	8
9	0
10	
11	10
12	4



Name:

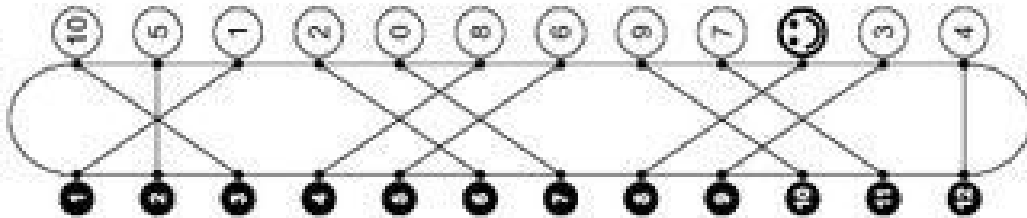
Klasse:

Minusaufgaben bis 10 (Lösung)

Löse die Aufgaben und schreibe die Ergebnisse in die Lösungsfelder!
Suche dann rechts auf dem Kontrollbild die Lösungszahl! Verbinde jeweils die Aufgabennummer mit der zugehörigen Lösungszahl!

1	$5-4=1$	7	$8-3=5$
2	$10-0=10$	8	$9-1=8$
3	$8-2=6$	9	$7-5=2$
4	$1-4=0$	10	
5	$6-3=3$	11	$10-1=9$
6	$9-2=7$	12	$9-5=4$

Kontrollbild



Name:

Klasse:

Minusaufgaben bis 10 (Lösung)

Löse die Aufgaben und schreibe die Ergebnisse in die Lösungsfelder!
Suche dann rechts auf dem Kontrollbild die Lösungszahl! Verbinde jeweils die Aufgabennummer mit der zugehörigen Lösungszahl!

1	$6-4=2$	7	$8-1=7$
2	$10-5=5$	8	$6-5=1$
3	$9-0=9$	9	$9-3=6$
4	$7-4=3$	10	
5	$5-5=0$	11	$10-2=8$
6	$8-4=4$	12	$10-0=10$

Kontrollbild

