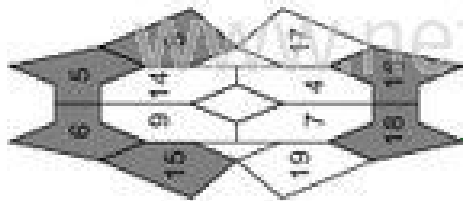


Analogieaufgaben mit 2, 3 und 4 (Lösung)

Rechne die Aufgaben aus und schreibe die Lösungen auf! Male links die Felder mit den Lösungszahlen farbig aus!

1 → 3



2 → 8

$$5 + 3 = 8$$


3 → 6

$$4 + 2 = 6$$

4 → 5

$$1 + 4 = 5$$

7 → 12



5 → 7

$$3 + 4 = 7$$

6 → 4

$$2 + 2 = 4$$

8 → 9

$$6 + 3 = 9$$

2 → 3

$$2 + 3 = 5$$

3 → 4

$$7 + 2 = 9$$

5 → 6

$$2 + 4 = 6$$

6 → 8

$$4 + 4 = 8$$

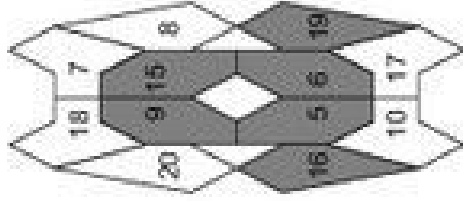
7 → 10

$$5 + 2 = 7$$

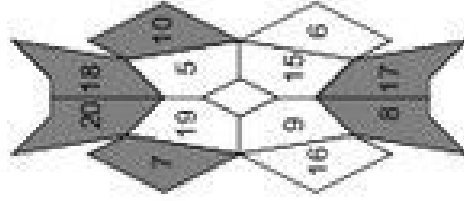
9 → 12

$$7 + 3 = 10$$

1 → 3



7 → 12



Analogieaufgaben mit 2, 3 und 4 (Lösung)

Rechne die Aufgaben aus und schreibe die Lösungen auf! Male rechts die Felder mit den Lösungszahlen farbig aus!

1 → 3

$$2 + 3 = 5$$

3 → 4

$$7 + 2 = 9$$

5 → 6

$$2 + 4 = 6$$

6 → 8

$$4 + 4 = 8$$

7 → 10

$$5 + 2 = 7$$

9 → 12

$$7 + 3 = 10$$

Klasse

Name

**Analogieaufgaben mit 2, 3 und 4**

Rechne die Aufgaben aus und schreibe die Lösungen auf! Verbinde links die Aufgabennummern mit den Lösungszahlen!

|    |          |   |
|----|----------|---|
| 1  | 9 - 3 =  | 6 |
| 2  | 5 - 2 =  | 4 |
| 3  | 8 - 4 =  | 6 |
| 4  | 19 - 3 = | 6 |
| 5  | 15 - 2 = | 4 |
| 6  | 18 - 4 = | 6 |
| 7  | 5 - 4 =  | 6 |
| 8  | 9 - 2 =  | 6 |
| 9  | 19 - 2 = | 6 |
| 10 | 8 - 3 =  | 6 |
| 11 |          |   |
| 12 |          |   |

© Michael Jung, Braunschweig 2010

Klasse

**Analogieaufgaben mit 2, 3 und 4**

Rechne die Aufgaben aus und schreibe die Lösungen auf! Verbinde rechts die Aufgabennummern mit den Lösungszahlen!

|    |          |   |
|----|----------|---|
| 1  | 4 - 3 =  | 1 |
| 2  | 7 - 2 =  | 3 |
| 3  | 6 - 4 =  | 6 |
| 4  | 14 - 3 = | 6 |
| 5  | 17 - 2 = | 4 |
| 6  | 16 - 4 = | 6 |
| 7  | 7 - 4 =  | 6 |
| 8  | 6 - 2 =  | 6 |
| 9  | 17 - 4 = | 6 |
| 10 | 16 - 2 = | 6 |
| 11 | 10 - 3 = | 6 |
| 12 | 20 - 3 = | 6 |

© Michael Jung, Braunschweig 2010

Analogieaufgaben mit 2, 3 und 4 (Lösung)

Rechne die Aufgaben aus und schreibe die Lösungen auf! Verbinde links die Aufgabennummern mit den Lösungszahlen!

|           |             |           |               |
|-----------|-------------|-----------|---------------|
| <b>1</b>  | $9 - 3 = 6$ | <b>2</b>  | $19 - 3 = 16$ |
| <b>3</b>  | $5 - 2 = 3$ | <b>4</b>  | $15 - 2 = 13$ |
| <b>6</b>  | $8 - 4 = 4$ | <b>8</b>  | $18 - 4 = 14$ |
| <b>7</b>  | $5 - 4 = 1$ | <b>9</b>  | $15 - 4 = 11$ |
| <b>9</b>  | $9 - 2 = 7$ | <b>10</b> | $19 - 2 = 17$ |
| <b>10</b> | $8 - 3 = 5$ | <b>12</b> | $18 - 3 = 15$ |

|          |           |           |           |           |           |           |
|----------|-----------|-----------|-----------|-----------|-----------|-----------|
| <b>1</b> | <b>3</b>  | <b>16</b> | <b>6</b>  | <b>14</b> | <b>4</b>  | <b>13</b> |
| <b>2</b> | <b>17</b> | <b>5</b>  | <b>11</b> | <b>7</b>  | <b>19</b> | <b>15</b> |

Analogieaufgaben mit 2, 3 und 4 (Lösung)

Rechne die Aufgaben aus und schreibe die Lösungen auf! Verbinde rechts die Aufgabennummern mit den Lösungszahlen!

|           |              |           |               |
|-----------|--------------|-----------|---------------|
| <b>1</b>  | $4 - 3 = 1$  | <b>2</b>  | $14 - 3 = 11$ |
| <b>3</b>  | $7 - 2 = 5$  | <b>4</b>  | $17 - 2 = 15$ |
| <b>6</b>  | $6 - 4 = 2$  | <b>8</b>  | $16 - 4 = 12$ |
| <b>7</b>  | $7 - 4 = 3$  | <b>9</b>  | $17 - 4 = 13$ |
| <b>9</b>  | $6 - 2 = 4$  | <b>10</b> | $16 - 2 = 14$ |
| <b>11</b> | $10 - 3 = 7$ | <b>12</b> | $20 - 3 = 17$ |

|          |           |           |           |           |           |
|----------|-----------|-----------|-----------|-----------|-----------|
| <b>1</b> | <b>3</b>  | <b>15</b> | <b>5</b>  | <b>11</b> | <b>12</b> |
| <b>2</b> | <b>14</b> | <b>4</b>  | <b>13</b> | <b>17</b> | <b>7</b>  |

Analogieaufgaben mit 2, 3 und 4

Rechne die Aufgaben aus und schreibe die Lösungen auf! Zeichne links Kreise um die Lösungszahlen! Male die Kreise farbig aus!

1 → 3

|    |    |    |
|----|----|----|
| 11 | 5  | 1  |
| 10 | 7  | 20 |
| 15 | 17 | 2  |
| 12 |    |    |

2

2 + 3 = 5

3

4 - 2 =

4

14 - 2 =

5

3 + 4 =

6

13 + 4 =

7

5 - 4 =

8

15 - 4 =

9

8 + 2 =

10

18 + 2 =

11

9 - 3 =

12

19 - 3 =

1

12 + 3 =

2

3 + 3 = 6

3

6 - 2 =

4

16 - 2 =

5

4 + 4 =

6

14 + 4 =

7

4 - 4 =

8

14 - 4 =

9

5 + 2 =

10

15 + 2 =

11

8 - 3 =

12

18 - 3 =

1 → 3

|    |    |   |
|----|----|---|
| 14 | 8  | 6 |
| 17 | 4  | 5 |
| 15 | 18 | 7 |
| 10 |    |   |

7 → 12

|    |    |    |
|----|----|----|
| 15 | 14 | 17 |
| 10 | 5  | 0  |
| 16 | 7  | 4  |
| 6  |    |    |

Analogieaufgaben mit 2, 3 und 4

Rechne die Aufgaben aus und schreibe die Lösungen auf! Zeichne rechts Kreise um die Lösungszahlen! Male die Kreise farbig aus!

1 → 3

3 + 3 =

3

6 - 2 =

4

4 + 4 =

5

4 - 4 =

6

14 - 4 =

7

5 + 2 =

8

15 + 2 =

9

8 - 3 =

10

18 - 3 =

7 → 12

|    |    |   |
|----|----|---|
| 14 | 8  | 6 |
| 17 | 4  | 5 |
| 15 | 18 | 7 |
| 10 |    |   |

7 → 12

|    |    |    |
|----|----|----|
| 15 | 14 | 17 |
| 10 | 5  | 0  |
| 16 | 7  | 4  |
| 6  |    |    |

Analogieaufgaben mit 2, 3 und 4 (Lösung)

Rechne die Aufgaben aus und schreibe die Lösungen auf! Zeichne links Kreise um die Lösungszahlen! Male die Kreise farbig aus!

1 → 3

12

11

5

1

10

7

20

15

17

2

6

→ 12

6

5

1

10

7

15

19

2

1

$2 + 3 = 5$

3

$4 - 2 = 2$

5

$3 + 4 = 7$

7

$5 - 4 = 1$

9

$8 + 2 = 10$

10

$9 - 3 = 6$

2

$12 + 3 = 15$

4

$14 - 2 = 12$

6

$13 + 4 = 17$

8

$15 - 4 = 11$

10

$18 + 2 = 20$

12

$19 - 3 = 16$

Analogieaufgaben mit 2, 3 und 4 (Lösung)

Rechne die Aufgaben aus und schreibe die Lösungen auf! Zeichne rechts Kreise um die Lösungszahlen! Male die Kreise farbig aus!

1

$3 + 3 = 6$

3

$6 - 2 = 4$

6

$4 + 4 = 8$

7

$4 - 4 = 0$

9

$5 + 2 = 7$

11

$8 - 3 = 5$

2

$13 + 3 = 16$

4

$16 - 2 = 14$

6

$14 + 4 = 18$

8

$14 - 4 = 10$

10

$15 + 2 = 17$

12

$18 - 3 = 15$

1 → 3

10

14

8

6

17

4

5

15

18

7

16

7 → 12

6

15

14

17

10

5

0

16

7

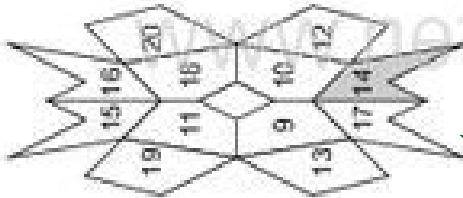
4

8

Plusaufgaben mit 2, 3 und 4

Rechne die Aufgaben aus und schreibe die Lösungen auf! Male links die Felder mit den Lösungszahlen farbig aus!

1 → 3



2

$12 + 2 = 14$       $15 + 4 =$

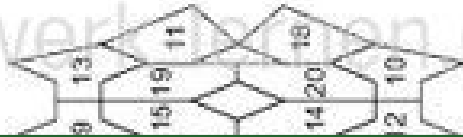
3

$17 + 3 =$        $14 + 2 =$

5

$13 + 4 =$        $12 + 3 =$

→ 12



6

$16 + 2 =$        $11 + 4 =$

9

$11 + 3 =$        $17 + 2 =$

10

$16 + 4 =$        $13 + 3 =$

Plusaufgaben mit 2, 3 und 4

Rechne die Aufgaben aus und schreibe die Lösungen auf! Male rechts die Felder mit den Lösungszahlen farbig aus!

2

$11 + 2 = 13$       $14 + 4 =$

4

$16 + 3 =$        $13 + 2 =$

6

$16 + 4 =$        $11 + 3 =$

8

$18 + 2 =$        $12 + 4 =$

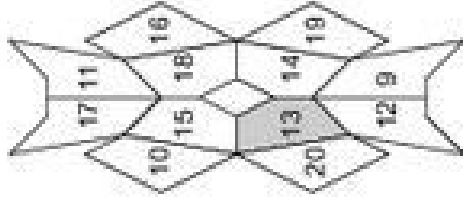
10

$12 + 3 =$        $16 + 2 =$

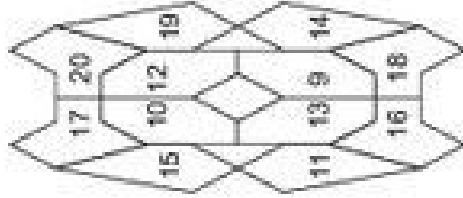
12

$15 + 4 =$        $14 + 3 =$

1 → 3



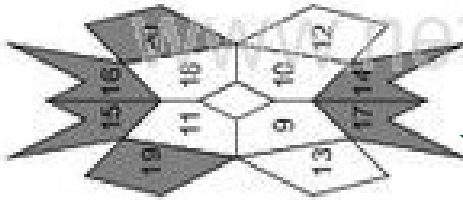
7 → 12



Plusaufgaben mit 2, 3 und 4 (Lösungen)

Rechne die Aufgaben aus und schreibe die Lösungen auf! Male links die Felder mit den Lösungszahlen farbig aus!

1 → 3



2

$$12 + 2 = 14 \quad 15 + 4 = 19$$

3

$$17 + 3 = 20 \quad 14 + 2 = 16$$

5

$$13 + 4 = 17 \quad 12 + 3 = 15$$

7

$$16 + 2 = 18 \quad 11 + 4 = 15$$

9

$$11 + 3 = 14 \quad 17 + 2 = 19$$

10

$$16 + 4 = 20 \quad 13 + 3 = 16$$

Plusaufgaben mit 2, 3 und 4 (Lösungen)

Rechne die Aufgaben aus und schreibe die Lösungen auf! Male rechts die Felder mit den Lösungszahlen farbig aus!

1

$$11 + 2 = 13 \quad 14 + 4 = 18$$

3

$$16 + 3 = 19 \quad 13 + 2 = 15$$

6

$$16 + 4 = 20 \quad 11 + 3 = 14$$

7

$$18 + 2 = 20 \quad 12 + 4 = 16$$

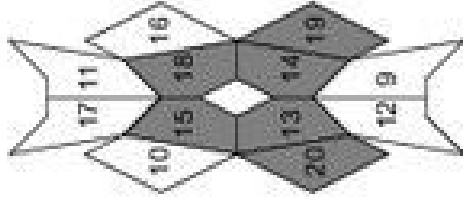
9

$$12 + 3 = 15 \quad 16 + 2 = 18$$

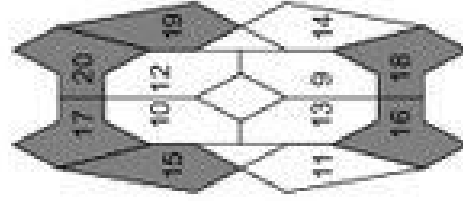
10

$$15 + 4 = 19 \quad 14 + 3 = 17$$

1 → 3



7 → 12

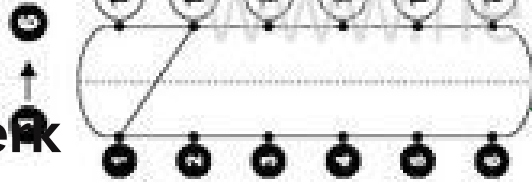


Klasse

Name

Minusaufgaben mit 2, 3 und 4

Rechne die Aufgaben aus und schreibe die Lösungen auf! Verbinde links die Aufgabennummern mit den Lösungszahlen!



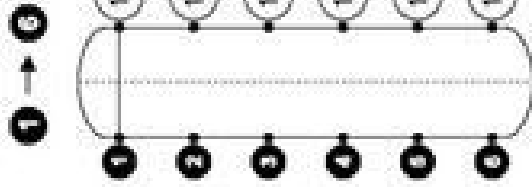
|    |             |    |          |
|----|-------------|----|----------|
| 1  | 20 - 2 = 18 | 2  | 16 - 4 = |
| 3  | 17 - 3 =    | 4  | 12 - 2 = |
| 5  | 15 - 4 =    | 6  | 19 - 3 = |
| 7  | 13 - 2 =    | 8  | 17 - 4 = |
| 9  | 15 - 3 =    | 10 | 19 - 2 = |
| 11 | 19 - 4 =    | 12 | 13 - 3 = |

© Michael Jung, Braunschweig 2010

Klasse

Minusaufgaben mit 2, 3 und 4

Rechne die Aufgaben aus und schreibe die Lösungen auf! Verbinde rechts die Aufgabennummern mit den Lösungszahlen!



|    |             |    |          |
|----|-------------|----|----------|
| 1  | 18 - 2 = 16 | 2  | 14 - 4 = |
| 3  | 20 - 3 =    | 4  | 15 - 2 = |
| 5  | 16 - 4 =    | 6  | 18 - 3 = |
| 7  | 19 - 2 =    | 8  | 20 - 4 = |
| 9  | 14 - 3 =    | 10 | 17 - 2 = |
| 11 | 17 - 4 =    | 12 | 15 - 3 = |

© Michael Jung, Braunschweig 2010





Klasse

Name

Klasse

### Minusaufgaben mit 2, 3 und 4 (Lösungen)

Rechne die Aufgaben aus und schreibe die Lösungen auf! Verbinde links die Aufgabennummern mit den Lösungszahlen!

|    |             |    |             |
|----|-------------|----|-------------|
| 1  | 20 - 2 = 18 | 2  | 16 - 4 = 12 |
| 3  | 17 - 3 = 14 | 4  | 12 - 2 = 10 |
| 6  | 15 - 4 = 11 | 8  | 19 - 3 = 16 |
| 7  | 13 - 2 = 11 | 9  | 17 - 4 = 13 |
| 10 | 15 - 3 = 12 | 12 | 19 - 2 = 17 |
| 12 | 19 - 4 = 15 |    | 13 - 3 = 10 |

|   |    |
|---|----|
| 1 | 12 |
| 2 | 18 |
| 3 | 11 |
| 4 | 10 |
| 5 | 14 |
| 6 | 16 |

|   |    |
|---|----|
| 1 | 13 |
| 2 | 11 |
| 3 | 18 |
| 4 | 10 |
| 5 | 12 |
| 6 | 17 |

© Michael Jung, Braunschweig 2010

### Minusaufgaben mit 2, 3 und 4 (Lösungen)

Rechne die Aufgaben aus und schreibe die Lösungen auf! Verbinde rechts die Aufgabennummern mit den Lösungszahlen!

|    |             |    |             |
|----|-------------|----|-------------|
| 1  | 18 - 2 = 16 | 2  | 14 - 4 = 10 |
| 3  | 20 - 3 = 17 | 4  | 15 - 2 = 13 |
| 6  | 16 - 4 = 12 | 8  | 18 - 3 = 15 |
| 7  | 19 - 2 = 17 | 9  | 20 - 4 = 16 |
| 10 | 14 - 3 = 11 | 12 | 17 - 2 = 15 |
| 11 | 17 - 4 = 13 |    | 15 - 3 = 12 |

|   |    |
|---|----|
| 1 | 16 |
| 2 | 13 |
| 3 | 17 |
| 4 | 10 |
| 5 | 15 |
| 6 | 12 |

|    |    |
|----|----|
| 7  | 11 |
| 8  | 15 |
| 9  | 17 |
| 10 | 16 |
| 11 | 12 |
| 12 | 13 |

© Michael Jung, Braunschweig 2010

Plus- und Minusaufgaben mit 2, 3 und 4

Rechne die Aufgaben aus und schreibe die Lösungen auf! Zeichne links Kreise um die Lösungszahlen! Male die Kreise farbig aus!

1 → 3

|          |
|----------|
| 10       |
| 15 11 13 |
| 14 20 19 |
| 18 12 16 |
| 17       |

1

$16 + 2 = 18$

3

$19 - 3 = \bigcirc$

5

$13 + 4 = \bigcirc$

→ 12

|       |
|-------|
| 18    |
| 19 12 |
| 20 17 |
| 15 13 |
| 11    |

7

$14 - 2 = \bigcirc$

9

$15 + 3 = \bigcirc$

10

$17 - 4 = \bigcirc$

2

$15 - 4 = \bigcirc$

4

$18 + 2 = \bigcirc$

6

$15 - 3 = \bigcirc$

8

$12 + 4 = \bigcirc$

10

$12 - 2 = \bigcirc$

12

$16 + 3 = \bigcirc$

Plus- und Minusaufgaben mit 2, 3 und 4

Rechne die Aufgaben aus und schreibe die Lösungen auf! Zeichne rechts Kreise um die Lösungszahlen! Male die Kreise farbig aus!

1

$17 + 2 = 19$

3

$18 - 3 = \bigcirc$

5

$16 + 4 = \bigcirc$

7

$15 - 2 = \bigcirc$

9

$11 + 3 = \bigcirc$

11

$20 - 4 = \bigcirc$

2

$16 - 4 = \bigcirc$

4

$16 + 2 = \bigcirc$

6

$14 - 3 = \bigcirc$

8

$13 + 4 = \bigcirc$

10

$17 - 2 = \bigcirc$

12

$17 + 3 = \bigcirc$

1 → 3

|          |
|----------|
| 12       |
| 11 14 20 |
| 17 19 16 |
| 15 10 18 |
| 13       |

7 → 12

|          |
|----------|
| 10       |
| 18 13 19 |
| 15 20 17 |
| 11 16 12 |
| 14       |