

Klasse

Name

Klasse

Plusaufgaben mit 3, 4 und 5 (Lösungen)

Rechne die Aufgaben aus und schreibe die Lösungen auf! Male rechts die Felder mit den Lösungszahlen farbig aus!

1 $4 + 4 = 8$

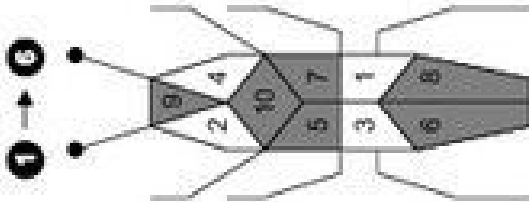
2 $2 + 3 = 5$

3 $4 + 3 = 7$

4 $6 + 4 = 10$

5 $5 + 4 = 9$

6 $3 + 3 = 6$



1 → 6

7 $6 = 2 + 4$

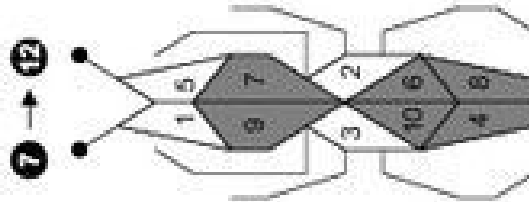
8 $9 = 6 + 3$

9 $4 = 1 + 3$

10 $7 = 2 + 5$

11 $10 = 5 + 5$

12 $8 = 5 + 3$



7 → 12

© Michael Jung, Braunschweig 2010

Plusaufgaben mit 3, 4 und 5 (Lösungen)

Rechne die Aufgaben aus und schreibe die Lösungen auf! Male rechts die Felder mit den Lösungszahlen farbig aus!

1 $2 + 5 = 7$

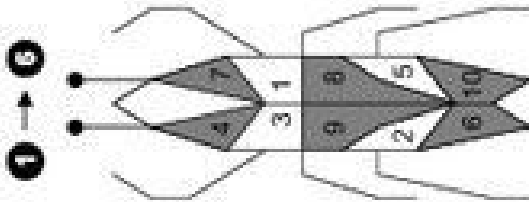
2 $4 + 5 = 9$

3 $7 + 3 = 10$

4 $1 + 3 = 4$

5 $2 + 4 = 6$

6 $3 + 5 = 8$



1 → 6

7 $10 = 6 + 4$

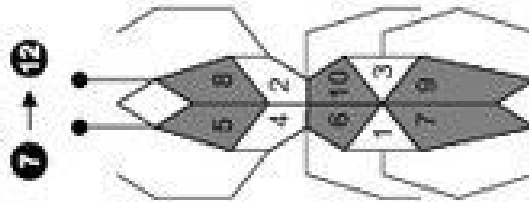
8 $7 = 3 + 4$

9 $5 = 2 + 3$

10 $9 = 6 + 3$

11 $8 = 4 + 4$

12 $6 = 1 + 5$



7 → 12

© Michael Jung, Braunschweig 2010

Klasse

Name

Klasse

Minusaufgaben mit 3, 4 und 5

Rechne die Aufgaben aus und schreibe die Lösungen auf! Verbinde rechts die Aufgabennummern mit den Lösungszahlen!

1 $10 - 3 = 7$

2 $7 - 3 =$

3 $4 - 4 =$

4 $9 - 4 =$

5 $5 - 3 =$

6 $8 - 5 =$

7 $= 7 - 4$

8 $= 9 - 3$

9 $= 9 - 5$

10 $= 5 - 4$

11 $= 7 - 5$

12 $= 8 - 3$

1 $7 - 4 = 3$

2 $10 - 5 =$

3 $4 - 3 =$

4 $8 - 4 =$

5 $10 - 4 =$

6 $7 - 5 =$

7 $= 9 - 4$

8 $= 8 - 5$

9 $= 5 - 3$

10 $= 9 - 5$

11 $= 4 - 4$

12 $= 5 - 4$



Klasse

Name

Klasse

Minusaufgaben mit 3, 4 und 5 (Lösungen)

Rechne die Aufgaben aus und schreibe die Lösungen auf! Verbinde rechts die Aufgabennummern mit den Lösungszahlen!

1 $10 - 3 = 7$ 2 $7 - 3 = 4$

3 $4 - 4 = 0$ 4 $9 - 4 = 5$

5 $5 - 3 = 2$ 6 $8 - 5 = 3$

7 $3 = 7 - 4$ 8 $6 = 9 - 3$

9 $4 = 9 - 5$ 10 $1 = 5 - 4$

11 $2 = 7 - 5$ 12 $5 = 8 - 3$

1 → 6

7 → 12

© Michael Jung, Braunschweig 2010

Minusaufgaben mit 3, 4 und 5 (Lösungen)

Rechne die Aufgaben aus und schreibe die Lösungen auf! Verbinde rechts die Aufgabennummern mit den Lösungszahlen!

1 $7 - 4 = 3$ 2 $10 - 5 = 5$

3 $4 - 3 = 1$ 4 $8 - 4 = 4$

5 $10 - 4 = 6$ 6 $7 - 5 = 2$

7 $5 = 9 - 4$ 8 $3 = 8 - 5$

9 $2 = 5 - 3$ 10 $4 = 9 - 5$

11 $0 = 4 - 4$ 12 $1 = 5 - 4$

1 → 3

7 → 12

© Michael Jung, Braunschweig 2010

Plus- und Minusaufgaben mit 3, 4 und 5

Rechne die Aufgaben aus und schreibe die Lösungen auf! Zeichne rechts Kreise um die Lösungszahlen! Male die Kreise farbig aus!

1 → 6

2 + 5 = 7 5 - 3 =

| | | |
|---|---|----|
| 9 | 3 | 8 |
| 1 | 7 | 4 |
| 2 | 6 | 10 |
| 5 | | 0 |

9 - 4 = 6 + 4 =

3 + 3 = 8 - 5 =

7 → 12

= 5 - 4 = 1 + 4

| | | |
|---|---|----|
| 5 | 0 | 6 |
| 2 | 8 | 7 |
| 9 | 3 | 1 |
| | | 10 |

= 3 + 5 = 9 - 3

= 8 - 4 = 6 + 3

Plus- und Minusaufgaben mit 3, 4 und 5

Rechne die Aufgaben aus und schreibe die Lösungen auf! Zeichne rechts Kreise um die Lösungszahlen! Male die Kreise farbig aus!

1 → 6

5 + 4 = 9 7 - 3 =

| | | |
|---|---|----|
| 3 | | |
| 4 | 6 | 5 |
| 2 | 9 | 10 |
| 0 | 8 | 7 |
| | | 1 |

6 - 5 = 0 + 5 =

4 + 4 = 10 - 4 =

7 → 12

= 8 - 3 = 5 + 5

| | | |
|----|---|---|
| 1 | | |
| 10 | 8 | 2 |
| 7 | 5 | 3 |
| 4 | 6 | 0 |
| | | 9 |

= 2 + 4 = 7 - 5

= 6 - 3 = 4 + 3

Klasse

Name

Plus- und Minusaufgaben mit 3, 4 und 5 (Lösungen)

Rechne die Aufgaben aus und schreibe die Lösungen auf! Zeichne rechts Kreise um die Lösungszahlen! Male die Kreise farbig aus!

1 $2 + 5 = 7$

2 $5 - 3 = 2$

3 $9 - 4 = 5$

4 $6 + 4 = 10$

5 $3 + 3 = 6$

6 $8 - 5 = 3$

7 $5 = 1 + 4$

8 $8 = 3 + 5$

9 $6 = 9 - 3$

10 $4 = 8 - 4$

11 $9 = 6 + 3$

1 → 6

| | | |
|---|---|----|
| 5 | | |
| 9 | 3 | 8 |
| 1 | 7 | 4 |
| 2 | 6 | 10 |
| 0 | | |

| | | |
|---|---|----|
| 9 | 3 | 8 |
| 1 | 7 | 4 |
| 2 | 6 | 10 |

| | | |
|---|---|----|
| 1 | 7 | 4 |
| 2 | 6 | 10 |

| | | |
|---|---|----|
| 2 | 6 | 10 |
|---|---|----|

| |
|---|
| 0 |
|---|

| |
|---|
| 0 |
|---|

7 → 12

| | | |
|----|---|---|
| 4 | | |
| 5 | 0 | 6 |
| 2 | 8 | 7 |
| 9 | 3 | 1 |
| 10 | | |

| | | |
|---|---|---|
| 4 | | |
| 5 | 0 | 6 |
| 2 | 8 | 7 |
| 9 | 3 | 1 |

| | | |
|---|---|---|
| 5 | 0 | 6 |
| 2 | 8 | 7 |
| 9 | 3 | 1 |

| | | |
|---|---|---|
| 2 | 8 | 7 |
| 9 | 3 | 1 |

| | | |
|---|---|---|
| 9 | 3 | 1 |
|---|---|---|

| |
|----|
| 10 |
|----|

Klasse

Plus- und Minusaufgaben mit 3, 4 und 5 (Lösungen)

Rechne die Aufgaben aus und schreibe die Lösungen auf! Zeichne rechts Kreise um die Lösungszahlen! Male die Kreise farbig aus!

1 $5 + 4 = 9$

2 $7 - 3 = 4$

3 $6 - 5 = 1$

4 $0 + 5 = 5$

5 $4 + 4 = 8$

6 $10 - 4 = 6$

7 $5 = 8 - 3$

8 $10 = 5 + 5$

9 $6 = 2 + 4$

10 $2 = 7 - 5$

11 $3 = 6 - 3$

12 $7 = 4 + 3$

1 → 6

| | | |
|---|---|----|
| 3 | | |
| 4 | 6 | 5 |
| 2 | 9 | 10 |
| 0 | 8 | 7 |
| 1 | | |

| | | |
|---|---|----|
| 4 | 6 | 5 |
| 2 | 9 | 10 |
| 0 | 8 | 7 |

| | | |
|---|---|----|
| 2 | 9 | 10 |
| 0 | 8 | 7 |

| | | |
|---|---|---|
| 0 | 8 | 7 |
|---|---|---|

| |
|---|
| 1 |
|---|

| |
|---|
| 1 |
|---|

7 → 12

| | | |
|----|---|---|
| 1 | | |
| 10 | 8 | 2 |
| 7 | 5 | 3 |
| 4 | 6 | 0 |
| 9 | | |

| | | |
|----|---|---|
| 1 | | |
| 10 | 8 | 2 |
| 7 | 5 | 3 |
| 4 | 6 | 0 |

| | | |
|----|---|---|
| 10 | 8 | 2 |
| 7 | 5 | 3 |
| 4 | 6 | 0 |

| | | |
|---|---|---|
| 7 | 5 | 3 |
| 4 | 6 | 0 |

| | | |
|---|---|---|
| 4 | 6 | 0 |
|---|---|---|

| |
|---|
| 9 |
|---|

Klasse

Name

Plusaufgaben mit 10

Rechne die Aufgaben aus und schreibe die Lösungen auf! Male rechts die Felder mit den Lösungszahlen farbig aus!

1 → 2
 $6 + 4 = 10$ $9 + \bigcirc = 10$

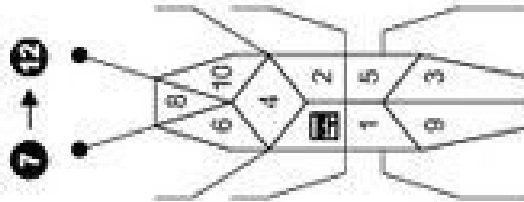
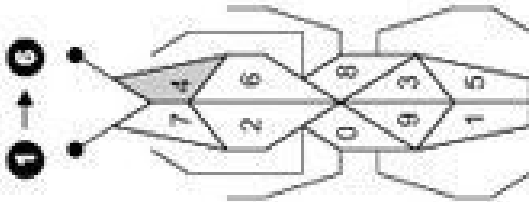
3 → 4
 $2 + \bigcirc = 10$ $5 + \bigcirc = 10$

5 → 6
 $3 + \bigcirc = 10$ $10 + \bigcirc = 10$

8 → 9
 $0 = \bigcirc + 1$ $10 = \bigcirc + 8$

10 → 11
 $0 = \bigcirc + 4$ $10 = \bigcirc + 7$

12 → 13
 $0 = \bigcirc + 0$



Plusaufgaben mit 10

Rechne die Aufgaben aus und schreibe die Lösungen auf! Male rechts die Felder mit den Lösungszahlen farbig aus!

1 → 2
 $8 + \bigcirc = 10$ $4 + \bigcirc = 10$

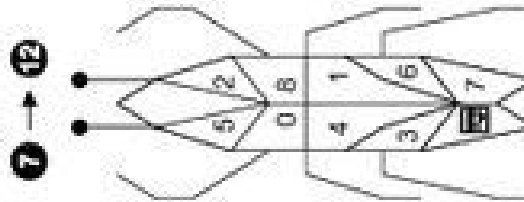
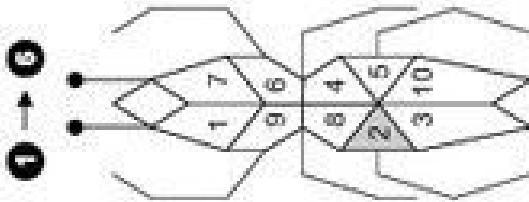
3 → 4
 $0 + \bigcirc = 10$ $5 + \bigcirc = 10$

5 → 6
 $7 + \bigcirc = 10$ $1 + \bigcirc = 10$

7 → 8
 $10 = \bigcirc + 9$ $10 = \bigcirc + 10$

9 → 10
 $10 = \bigcirc + 6$ $10 = \bigcirc + 2$

11 → 12
 $10 = \bigcirc + 3$



Klasse

Klasse

Name

Plusaufgaben mit 10 (Lösungen)

Rechne die Aufgaben aus und schreibe die Lösungen auf! Male rechts die Felder mit den Lösungszahlen farbig aus!

2

$$6 + 4 = 10 \quad 9 + 1 = 10$$

4

$$2 + 8 = 10 \quad 5 + 5 = 10$$

6

$$3 + 7 = 10 \quad 10 + 0 = 10$$

8

$$0 = 9 + 1 \quad 10 = 2 + 8$$

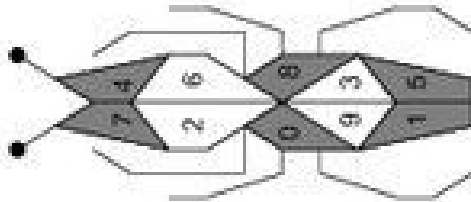
10

$$0 = 6 + 4 \quad 10 = 3 + 7$$

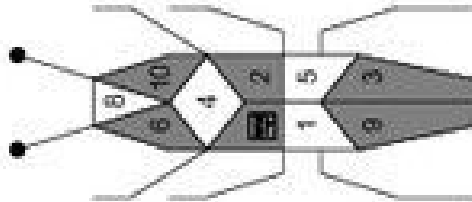
12

$$0 = 10 + 0$$

1 → 6



7 → 12



Klasse

Plusaufgaben mit 10 (Lösungen)

Rechne die Aufgaben aus und schreibe die Lösungen auf! Male rechts die Felder mit den Lösungszahlen farbig aus!

1

$$8 + 2 = 10 \quad 4 + 6 = 10$$

3

$$0 + 10 = 10 \quad 5 + 5 = 10$$

5

$$7 + 3 = 10 \quad 1 + 9 = 10$$

7

$$10 = 1 + 9 \quad 10 = 0 + 10$$

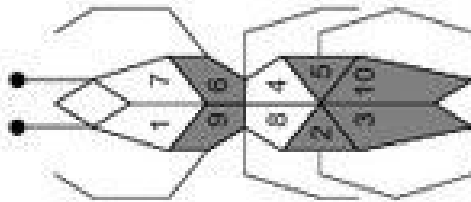
9

$$10 = 4 + 6 \quad 10 = 8 + 2$$

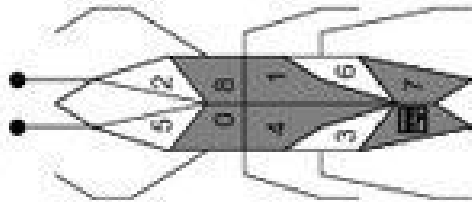
11

$$10 = 7 + 3$$

1 → 6



7 → 12



Minusaufgaben mit 10

Nimm die Aufgaben aus und schreibe die Lösungen ab! Verbinde rechts die Aufgabennummern mit den Lösungszahlen!

| | | | | | |
|----|------------|----|----------|-------|----|
| 1 | 10 - 6 = 4 | 2 | 10 - 3 = | 1 → 6 | 7 |
| 3 | 10 - 2 = | 4 | 10 - 9 = | 2 → 4 | 8 |
| 5 | 10 - 10 = | 6 | 10 - 4 = | 3 → 0 | 9 |
| 7 | = 10 - 0 | 8 | = 10 - 5 | 4 → 1 | 10 |
| 9 | = 10 - 8 | 10 | = 10 - 1 | 5 → 8 | 11 |
| 11 | = 10 - 7 | 12 | | 6 → 6 | 12 |

Minusaufgaben mit 10

Rechne die Aufgaben aus und schreibe die Lösungen auf! Verbinde rechts die Aufgabennummern mit den Lösungszahlen!

| | | | | | |
|----|------------|----|-----------|-------|----|
| 1 | 10 - 8 = 2 | 2 | 10 - 10 = | 1 → 3 | 7 |
| 3 | 10 - 1 = | 4 | 10 - 4 = | 2 → 6 | 8 |
| 5 | 10 - 5 = | 6 | 10 - 7 = | 3 → 9 | 9 |
| 7 | = 10 - 9 | 8 | = 10 - 3 | 4 → 0 | 10 |
| 9 | = 10 - 6 | 10 | = 10 - 2 | 5 → 3 | 11 |
| 11 | = 10 - 0 | 12 | | 6 → 5 | 12 |

Klasse

Name

Klasse

Minusaufgaben mit 10 (Lösungen)

Rechne die Aufgaben aus und schreibe die Lösungen auf! Verbinde rechts die Aufgabennummern mit den Lösungszahlen!

1 $10 - 6 = 4$ 2 $10 - 3 = 7$

3 $10 - 2 = 8$ 4 $10 - 9 = 1$

5 $10 - 10 = 0$ 6 $10 - 4 = 6$

7 $10 = 10 - 0$ 8 $5 = 10 - 5$

9 $2 = 10 - 8$ 10 $9 = 10 - 1$

11 $3 = 10 - 7$ 12

1 $10 - 8 = 2$ 2 $10 - 10 = 0$

3 $10 - 1 = 9$ 4 $10 - 4 = 6$

5 $10 - 5 = 5$ 6 $10 - 7 = 3$

7 $1 = 10 - 9$ 8 $7 = 10 - 3$

9 $4 = 10 - 6$ 10 $8 = 10 - 2$

11 $10 = 10 - 0$ 12

Plus- und Minusaufgaben mit 10

Rechne die Aufgaben aus und schreibe die Lösungen auf! Zeichne rechts Kreise um die Lösungszahlen! Male die Kreise farbig aus!

1 → 6

7 + 3 = 10 10 - ○ = 6

| | | |
|---|----|---|
| 7 | 10 | 0 |
| 1 | 3 | 6 |
| 4 | 8 | 5 |
| 2 | | 9 |

10 - ○ = 1 0 + ○ = 10

5 + ○ = 10 10 - ○ = 2

7 → 12

0 - ○ = 3 6 + ○ = 10

| | | |
|---|---|----|
| 1 | 6 | 7 |
| 9 | 8 | 10 |
| 4 | 0 | 5 |
| 2 | | 3 |

○ + ○ = 10 10 - ○ = 5

0 - ○ = 4 9 + ○ = 10

Plus- und Minusaufgaben mit 10

Rechne die Aufgaben aus und schreibe die Lösungen auf! Zeichne rechts Kreise um die Lösungszahlen! Male die Kreise farbig aus!

1 → 6

8 + 2 = 10 10 - ○ = 5

| | | |
|---|---|----|
| 4 | 3 | 6 |
| 8 | 2 | 0 |
| 9 | 1 | 7 |
| 5 | | 10 |

10 - ○ = 3 6 + ○ = 10

4 + ○ = 10 10 - ○ = 1

7 → 12

10 - ○ = 8 5 + ○ = 10

| | | |
|---|----|---|
| 7 | 9 | 4 |
| 3 | 10 | 2 |
| 1 | 5 | 0 |
| 8 | | 6 |

7 + ○ = 10 10 - ○ = 1

10 - ○ = 4 0 + ○ = 10