

Klasse

Name

Plusaufgaben mit 0, 1, 2 und 3 (Lösungen)

Rechne die Aufgaben aus und schreibe die Lösungen auf! Male rechts die Felder mit den Lösungszahlen farbig aus!

2

$2 + 1 = 3$

$4 + 2 = 6$

3

$6 + 3 = 9$

$3 + 1 = 4$

5

$7 + 1 = 8$

$7 + 3 = 10$

8

$+ 2 = 4$

$5 + 3 = 8$

10

$+ 2 = 10$

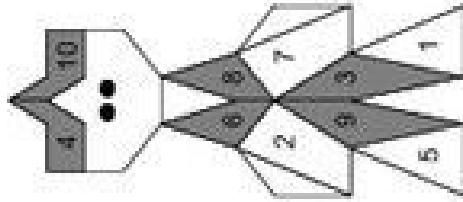
$1 + 1 = 2$

12

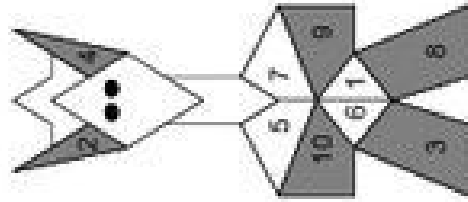
$+ 3 = 3$

$7 + 2 = 9$

1 → 6



7 → 12



© Michael Jung, Braunschweig 2008

Klasse

Plusaufgaben mit 0, 1, 2 und 3 (Lösungen)

Rechne die Aufgaben aus und schreibe die Lösungen auf! Male rechts die Felder mit den Lösungszahlen farbig aus!

1

$1 + 3 = 4$

$5 + 3 = 8$

3

$8 + 2 = 10$

$3 + 3 = 6$

6

$4 + 3 = 7$

$8 + 1 = 9$

7

$5 + 1 = 6$

$6 + 2 = 8$

9

$1 + 2 = 3$

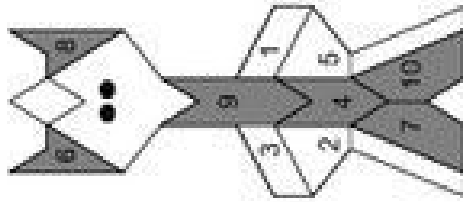
$5 + 2 = 7$

11

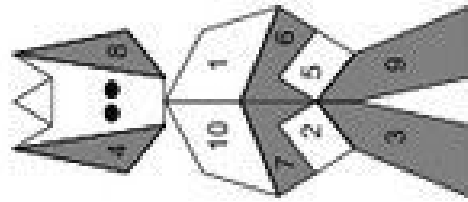
$7 + 2 = 9$

$4 + 0 = 4$

2



8



© Michael Jung, Braunschweig 2008

Klasse

Name

Minusaufgaben mit 0, 1, 2 und 3

Rechne die Aufgaben aus und schreibe die Lösungen auf! Verbinde rechts die Aufgabennummern mit den Lösungszahlen!

1	6 - 3 =	2	3 - 2 =	1 → 6
3	9 - 0 =	4	5 - 1 =	2
5	4 - 2 =	6	10 - 3 =	3
7	1 - 3 =	8	2 - 2 =	4
9	1 - 1 =	10	5 - 3 =	5
11	0 - 0 =	12	8 - 2 =	6

1	2	3	4	5	6	7	8	9	10	11	12
1	2	3	4	5	6	7	8	9	10	11	12

© Michael Jung, Braunschweig 2008

Klasse

Minusaufgaben mit 0, 1, 2 und 3

Rechne die Aufgaben aus und schreibe die Lösungen auf! Verbinde rechts die Aufgabennummern mit den Lösungszahlen!

1	10 - 2 =	2	3 - 3 =	1 → 6
3	5 - 3 =	4	10 - 0 =	2
5	9 - 3 =	6	7 - 2 =	3
7	4 - 3 =	8	10 - 1 =	4
9	9 - 2 =	10	7 - 1 =	5
11	7 - 3 =	12	5 - 2 =	6

1	2	3	4	5	6	7	8	9	10	11	12
1	2	3	4	5	6	7	8	9	10	11	12

© Michael Jung, Braunschweig 2008

Klasse

Name

Klasse

Minusaufgaben mit 0, 1, 2 und 3 (Lösungen)

Rechne die Aufgaben aus und schreibe die Lösungen auf! Verbinde rechts die Aufgabennummern mit den Lösungszahlen!

1	2	3	4	5	6	7	8	9	10	11	12
$6-3=3$	$3-2=1$	$9-0=9$	$5-1=4$	$4-2=2$	$10-3=7$	$2-2=0$	$5-3=2$	$0-0=10$	$8-2=6$	$1-1=8$	$0-0=10$
1	2	3	4	5	6	7	8	9	10	11	12
$10-2=8$	$3-3=0$	$5-3=2$	$10-0=10$	$7-2=5$	$4-3=1$	$10-1=9$	$7-1=6$	$9-2=7$	$5-2=3$	$7-3=4$	$7-3=4$

© Michael Jung, Braunschweig 2008

Minusaufgaben mit 0, 1, 2 und 3 (Lösungen)

Rechne die Aufgaben aus und schreibe die Lösungen auf! Verbinde rechts die Aufgabennummern mit den Lösungszahlen!

1	2	3	4	5	6	7	8	9	10	11	12
$10-2=8$	$3-3=0$	$5-3=2$	$10-0=10$	$7-2=5$	$4-3=1$	$10-1=9$	$7-1=6$	$9-2=7$	$5-2=3$	$7-3=4$	$7-3=4$
1	2	3	4	5	6	7	8	9	10	11	12
$10-2=8$	$3-3=0$	$5-3=2$	$10-0=10$	$7-2=5$	$4-3=1$	$10-1=9$	$7-1=6$	$9-2=7$	$5-2=3$	$7-3=4$	$7-3=4$

© Michael Jung, Braunschweig 2008

Klasse

Name

Plus- und Minusaufgaben mit 0, 1, 2 und 3

Rechne die Aufgaben aus und schreibe die Lösungen auf! Zeichne rechts Kreise um die Lösungszahlen! Male die Kreise farbig aus!

1 → 6

5 + 3 = 8 3 - 2 = ○

6 - 2 = ○ 9 + 1 = ○

4 + 3 = ○ 7 - 2 = ○

10
9 7 2
3 8 6
1 5 4
0

7 → 12

- 2 = ○ 2 + 3 = ○

+ 3 = ○ 6 - 0 = ○

- 2 = ○ 1 + 3 = ○

4
5 10 3
0 2 8
6 1 9
7

© Michael Jung, Braunschweig 2008

Klasse

Plus- und Minusaufgaben mit 0, 1, 2 und 3

Rechne die Aufgaben aus und schreibe die Lösungen auf! Zeichne rechts Kreise um die Lösungszahlen! Male die Kreise farbig aus!

1 → 6

7 + 2 = 9 6 - 3 = ○

5 - 3 = ○ 2 + 2 = ○

4 + 1 = ○ 9 - 3 = ○

10
2 5 9
1 6 7
8 3 0
4

7 → 12

4 - 0 = ○ 5 + 2 = ○

7 + 3 = ○ 4 - 3 = ○

6 - 1 = ○ 6 + 2 = ○

0
1 2 4
7 8 5
3 10 6
9

© Michael Jung, Braunschweig 2008

Klasse

Name

Plus- und Minusaufgaben mit 0, 1, 2 und 3 (Lösungen)

Rechne die Aufgaben aus und schreibe die Lösungen auf! Zeichne rechts Kreise um die Lösungszahlen! Male die Kreise farbig aus!

1 $5 + 3 = 8$ 2 $3 - 2 = 1$

3 $6 - 2 = 4$ 4 $9 + 1 = 10$

5 $4 + 3 = 7$ 6 $7 - 2 = 5$

1 → 6

10		
9	7	2
3	8	6
1	5	4
0		

8 $- 2 = 2$ 9 $2 + 3 = 5$

10 $+ 3 = 9$ 11 $6 - 0 = 6$

12 $- 2 = 3$ 13 $1 + 3 = 4$

7 → 12

4		
5	10	3
0	2	8
6	1	9
7		

© Michael Jung, Braunschweig 2008

Klasse

Plus- und Minusaufgaben mit 0, 1, 2 und 3 (Lösungen)

Rechne die Aufgaben aus und schreibe die Lösungen auf! Zeichne rechts Kreise um die Lösungszahlen! Male die Kreise farbig aus!

1 $7 + 2 = 9$ 2 $6 - 3 = 3$

3 $5 - 3 = 2$ 4 $2 + 2 = 4$

5 $4 + 1 = 5$ 6 $9 - 3 = 6$

1 → 6

10		
2	5	9
1	6	7
8	3	0
4		

7 $4 - 0 = 4$ 8 $5 + 2 = 7$

9 $7 + 3 = 10$ 10 $4 - 3 = 1$

11 $6 - 1 = 5$ 12 $6 + 2 = 8$

7 → 12

0		
1	2	4
7	8	5
3	10	6
9		

© Michael Jung, Braunschweig 2008

Plusaufgaben bis 10

Rechne die Aufgaben aus und schreibe die Lösungen auf! Male rechts die Felder mit den Lösungszahlen farbig aus!

1 → 2

$1 + 3 = 4$

$3 + 5 = \bigcirc$

3

$2 + 7 = \bigcirc$

$4 + 2 = \bigcirc$

5

$3 + 4 = \bigcirc$

$6 + 4 = \bigcirc$

8

$+ 5 = \bigcirc$

$3 + 6 = \bigcirc$

10

$+ 5 = \bigcirc$

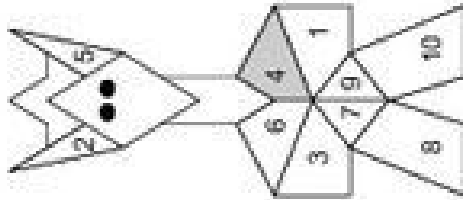
$1 + 5 = \bigcirc$

12

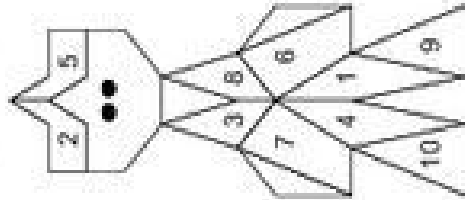
$+ 2 = \bigcirc$

$6 + 2 = \bigcirc$

1 → 6



7 → 12



Plusaufgaben bis 10

Rechne die Aufgaben aus und schreibe die Lösungen auf! Male rechts die Felder mit den Lösungszahlen farbig aus!

1

$4 + 6 = 10$

$0 + 3 = \bigcirc$

3

$4 + 4 = \bigcirc$

$4 + 3 = \bigcirc$

6

$5 + 4 = \bigcirc$

$2 + 4 = \bigcirc$

7

$1 + 6 = \bigcirc$

$4 + 5 = \bigcirc$

9

$2 + 6 = \bigcirc$

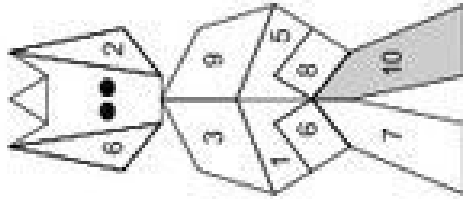
$3 + 7 = \bigcirc$

11

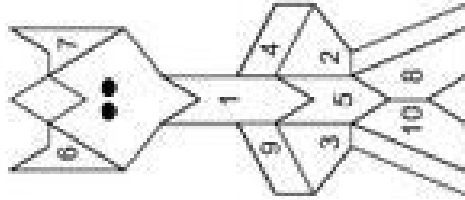
$3 + 3 = \bigcirc$

$3 + 1 = \bigcirc$

1 → 6



7 → 12



Klasse

Name

Klasse

Plusaufgaben bis 10 (Lösungen)

Rechne die Aufgaben aus und schreibe die Lösungen auf! Male rechts die Felder mit den Lösungszahlen farbig aus!

2

$1 + 3 = 4$

$3 + 5 = 8$

3

$2 + 7 = 9$

$4 + 2 = 6$

5

$3 + 4 = 7$

$6 + 4 = 10$

8

$+ 5 = 7$

$3 + 6 = 9$

10

$+ 5 = 10$

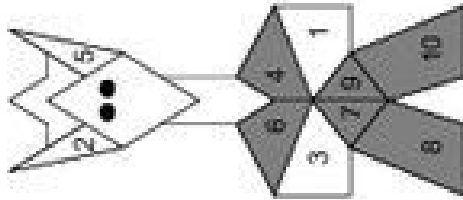
$1 + 5 = 6$

12

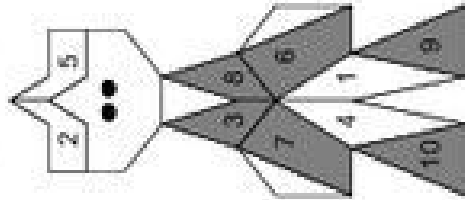
$+ 2 = 3$

$6 + 2 = 8$

1 → 6



7 → 12



© Michael Jung, Braunschweig 2008

Plusaufgaben bis 10 (Lösungen)

Rechne die Aufgaben aus und schreibe die Lösungen auf! Male rechts die Felder mit den Lösungszahlen farbig aus!

1

$4 + 6 = 10$

$0 + 3 = 3$

3

$4 + 4 = 8$

$4 + 3 = 7$

6

$5 + 4 = 9$

$2 + 4 = 6$

7

$1 + 6 = 7$

$4 + 5 = 9$

9

$2 + 6 = 8$

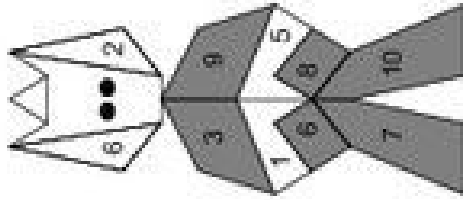
$3 + 7 = 10$

11

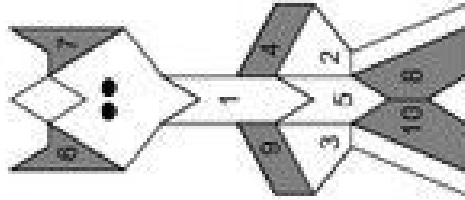
$3 + 3 = 6$

$3 + 1 = 4$

1 → 6



7 → 12



© Michael Jung, Braunschweig 2008



Netzwerk
lernen

zur Vollversion

Name

Klasse

Name

Klasse

Minusaufgaben bis 10

Rechne die Aufgaben aus und schreibe die Lösungen auf! Verbinde rechts die Aufgabennummern mit den Lösungszahlen!

1	9 - 5 =	4	8 - 2 =	6
2	10 - 2 =	4	6 - 4 =	4
3	5 - 2 =	6	7 - 7 =	3
4		8		2
5		0		8
6		7		0
7		12		7
8		7		2
9		2		6
10		6		5
11		4		4
12		1		1

© Michael Jung, Braunschweig 2008

Minusaufgaben mit 2

Rechne die Aufgaben aus und schreibe die Lösungen auf! Verbinde rechts die Aufgabennummern mit den Lösungszahlen!

1	6 - 2 =	4	9 - 3 =	3
2	8 - 7 =	4	10 - 5 =	5
3	10 - 3 =	6	7 - 5 =	1
4		8		6
5		2		2
6		7		7
7		8		12
8		4		4
9		3		3
10		2		2
11		6		6
12		0		0
13		8		8

© Michael Jung, Braunschweig 2008



Netzwerk lernen

zur Vollversion

Name

Klasse

Minusaufgaben bis 10 (Lösungen)

Rechne die Aufgaben aus und schreibe die Lösungen auf! Verbinde rechts die Aufgabennummern mit den Lösungszahlen!

1 $9 - 5 = 4$ 2 $8 - 2 = 6$

3 $10 - 2 = 8$ 4 $6 - 4 = 2$

5 $5 - 2 = 3$ 6 $7 - 7 = 0$

7 $9 - 6 = 2$ 8 $9 - 2 = 7$

9 $7 - 3 = 4$ 10 $6 - 5 = 1$

11 $0 - 4 = 6$ 12 $8 - 3 = 5$

1 → 6

7 → 12

© Michael Jung, Braunschweig 2008

Name

Klasse

Minusaufgaben mit 2 (Lösungen)

Rechne die Aufgaben aus und schreibe die Lösungen auf! Verbinde rechts die Aufgabennummern mit den Lösungszahlen!

1 $6 - 2 = 4$ 2 $9 - 3 = 6$

3 $8 - 7 = 1$ 4 $10 - 5 = 5$

6 $10 - 3 = 7$ 6 $7 - 5 = 2$

7 $9 - 7 = 2$ 8 $7 - 1 = 6$

9 $8 - 4 = 4$ 10 $10 - 7 = 3$

11 $10 - 2 = 8$ 12 $6 - 6 = 0$

1 → 6

7 → 12

© Michael Jung, Braunschweig 2008

Plus- und Minusaufgaben bis 10

Rechne die Aufgaben aus und schreibe die Lösungen auf! Zeichne rechts Kreise um die Lösungszahlen! Male die Kreise farbig aus!

1 $2 + 3 = 5$

2 $8 - 5 =$

3 $7 - 6 =$

4 $2 + 7 =$

5 $4 + 4 =$

6 $7 - 3 =$

7 $-4 =$

8 $5 + 5 =$

9 $+2 =$

10 $7 - 7 =$

11 $-6 =$

12 $2 + 5 =$

1 → 6

7		
0	3	2
6	8	10
5	4	1
		9

7 → 12

2		
7	5	6
4	1	8
10	3	0
		9

Plus- und Minusaufgaben mit 2

Rechne die Aufgaben aus und schreibe die Lösungen auf! Zeichne rechts Kreise um die Lösungszahlen! Male die Kreise farbig aus!

1 $3 + 4 = 7$

2 $9 - 7 =$

3 $8 - 8 =$

4 $4 + 6 =$

5 $1 + 5 =$

6 $7 - 2 =$

7 $9 - 8 =$

8 $5 + 3 =$

9 $3 + 2 =$

10 $7 - 4 =$

11 $9 - 5 =$

12 $4 + 5 =$

1 → 6

6		
5	9	7
3	2	4
0	8	10
		1

7 → 12

2		
7	9	10
3	1	5
0	4	6
		8