

Plusaufgaben mit 2, 3, 4, 5 und 6 (L)

Rechne die Aufgaben aus und schreibe die Lösungen auf! Male links die Felder mit den Lösungszahlen farbig aus!

1 → 6



2

$$8 + 5 = 13$$


3

$$9 + 6 = 15$$

4

$$8 + 4 = 12$$

7 → 12



8

$$15 = 9 + 6$$

9

$$10 = 8 + 2$$

10

$$13 = 9 + 4$$

$$14 = 8 + 6$$

$$11 = 7 + 4$$

Plusaufgaben mit 2, 3, 4, 5 und 6 (L)

Rechne die Aufgaben aus und schreibe die Lösungen auf! Male rechts die Felder mit den Lösungszahlen farbig aus!

1

$$9 + 4 = 13$$

2

$$8 + 6 = 14$$

3

$$9 + 2 = 11$$

7

$$12 = 6 + 6$$

9

$$11 = 8 + 3$$

10

$$14 = 9 + 5$$

3

$$7 + 5 = 12$$

4

$$6 + 4 = 10$$

6

$$9 + 6 = 15$$

8

$$15 = 9 + 6$$

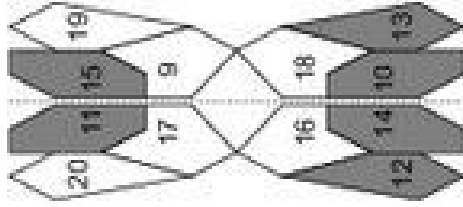
10

$$13 = 8 + 5$$

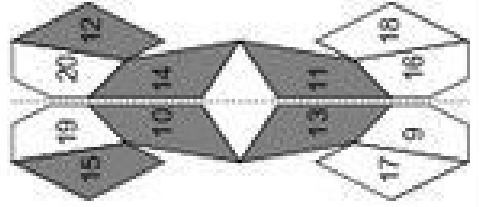
12

$$10 = 7 + 3$$

1 → 6



7 → 12



Klasse

Name

Klasse

Minusaufgaben mit 2, 3, 4, 5 und 6

Rechne die Aufgaben aus und schreibe die Lösungen auf! Verbinde links die Aufgabennummern mit den Lösungszahlen!

1	2	3	4	5	6	7	8	9	10	11	12
12-3=	11-4=	11-6=	13-3=	13-5=	12-6=	=11-2	=10-4	=15-5	=11-3	=11-6	=12-5

© Michael Jung, Braunschweig 2010

Minusaufgaben mit 2, 3, 4, 5 und 6

Rechne die Aufgaben aus und schreibe die Lösungen auf! Verbinde rechts die Aufgabennummern mit den Lösungszahlen!

1	2	3	4	5	6	7	8	9	10	11	12
14-4=	13-5=	12-6=	12-3=	10-5=	=12-4	=11-2	=16-6	=11-5	=13-6	=11-6	

© Michael Jung, Braunschweig 2010

Klasse

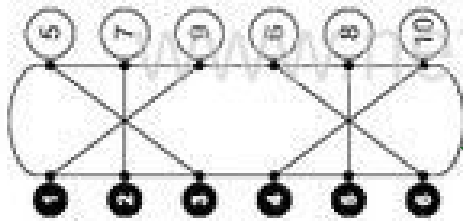
Name

Klasse

Minusaufgaben mit 2, 3, 4, 5 und 6 (L)

Rechne die Aufgaben aus und schreibe die Lösungen auf! Verbinde links die Aufgabennummern mit den Lösungszahlen!

1 → 3



2

$$12 - 3 = 9$$

3

$$11 - 6 = 5$$

6

$$13 - 5 = 8$$

7

$$12 - 6 = 6$$

9

$$11 - 4 = 7$$

10

$$13 - 3 = 10$$

12

$$11 - 6 = 5$$

1

$$14 - 4 = 10$$

3

$$12 - 6 = 6$$

6

$$11 - 4 = 7$$

8

$$13 - 5 = 8$$

10

$$10 - 5 = 5$$

11

$$9 = 12 - 4$$

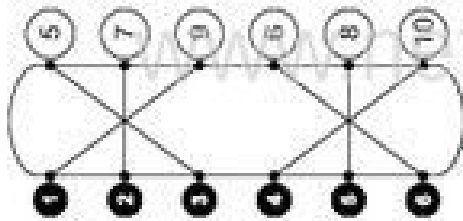
12

$$6 = 11 - 5$$

Minusaufgaben mit 2, 3, 4, 5 und 6 (L)

Rechne die Aufgaben aus und schreibe die Lösungen auf! Verbinde rechts die Aufgabennummern mit den Lösungszahlen!

10 → 3



2

$$11 - 4 = 7$$

3

$$13 - 3 = 10$$

6

$$12 - 6 = 6$$

7

$$6 = 10 - 4$$

9

$$11 - 2 = 9$$

10

$$8 = 11 - 3$$

12

$$5 = 11 - 6$$

2

$$13 - 5 = 8$$

4

$$12 - 3 = 9$$

6

$$10 - 5 = 5$$

8

$$9 = 12 - 4$$

10

$$6 = 11 - 5$$

11

$$7 = 13 - 6$$

12

$$5 = 11 - 6$$

Klasse

Name

Klasse

Plus und Minus mit 2, 3, 4, 5 und 6

Rechne die Aufgaben aus und schreibe die Lösungen auf! Zeichne links Kreise um die Lösungszahlen! Male die Kreise farbig aus!

1 → 3

6	11	13
20		18
16	7	
19	17	
12	9	15

2

$9 + 3 = 12$

3

$12 - 6 = \bigcirc$

4

$8 + 5 = \bigcirc$

→ 12

5	10	
	12	15
8	6	7

5

$\bigcirc = 12 - 5$

6

$\bigcirc = 8 + 6$

7

$\bigcirc = 13 - 4$

Plus und Minus mit 2, 3, 4, 5 und 6

Rechne die Aufgaben aus und schreibe die Lösungen auf! Zeichne rechts Kreise um die Lösungszahlen! Male die Kreise farbig aus!

1

$8 + 5 = 13$

2

$11 - 4 = \bigcirc$

3

$8 + 6 = \bigcirc$

7

$\bigcirc = 11 - 5$

9

$\bigcirc = 9 + 2$

11

$\bigcirc = 11 - 3$

3

$9 + 6 = \bigcirc$

4

$11 - 6 = \bigcirc$

6

$9 + 3 = \bigcirc$

8

$\bigcirc = 12 - 3$

10

$\bigcirc = 8 + 6$

12

$\bigcirc = 12 - 5$

1 → 3

9	7	8
18		16
13		14
12		15
17	5	6

7 → 12

6	15	8
13		16
4		12
7		11
14	4	9

Klasse

Name

Klasse

### Plus und Minus mit 2, 3, 4, 5 und 6 (L)

Rechne die Aufgaben aus und schreibe die Lösungen auf! Zeichne links Kreise um die Lösungszahlen! Male die Kreise farbig aus!

1 → 3

6	11	13
20		18
16		7
19		17
12	9	15

1 → 3

$$9 + 3 = 12$$

3 → 1

$$12 - 6 = 6$$

3 → 1

$$8 + 5 = 13$$

→ 12

5	10	
	12	15
	7	
8	6	

1 → 3

$$7 = 12 - 5$$

10 → 12

$$14 = 8 + 6$$

12 → 10

$$9 = 13 - 4$$

### Plus und Minus mit 2, 3, 4, 5 und 6 (L)

Rechne die Aufgaben aus und schreibe die Lösungen auf! Zeichne rechts Kreise um die Lösungszahlen! Male die Kreise farbig aus!

1 → 3

$$8 + 5 = 13$$

3 → 4

$$11 - 4 = 7$$

3 → 6

$$8 + 6 = 14$$

7 → 12

6	15	8
13		16
4		12
7		11
14	4	9

1 → 3

$$9 + 6 = 15$$

3 → 4

$$11 - 6 = 5$$

3 → 6

$$9 + 3 = 12$$

7 → 12

$$6 = 11 - 5$$

10 → 12

$$11 = 9 + 2$$

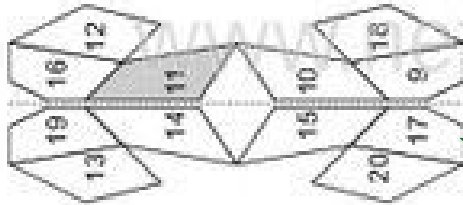
12 → 10

$$8 = 11 - 3$$

Plusaufgaben mit 4, 5, 6 und 7

Rechne die Aufgaben aus und schreibe die Lösungen auf! Male links die Felder mit den Lösungszahlen farbig aus!

1 → 3



2

$7 + 4 = 11$

3

$8 + 7 = \bigcirc$

4

$6 + 6 = \bigcirc$

5

$3 + 7 = \bigcirc$

6

$\bigcirc = 9 + 6$

7

$\bigcirc = 7 + 5$

8

$\bigcirc = 9 + 7$

9

$\bigcirc = 7 + 7$

10

$\bigcirc = 9 + 4$

11

$\bigcirc = 6 + 5$

12

$\bigcirc = 9 + 6$

Plusaufgaben mit 4, 5, 6 und 7

Rechne die Aufgaben aus und schreibe die Lösungen auf! Male rechts die Felder mit den Lösungszahlen farbig aus!

1

$8 + 4 = 12$

2

$9 + 5 = \bigcirc$

3

$3 + 7 = \bigcirc$

4

$5 + 6 = \bigcirc$

5

$8 + 7 = \bigcirc$

6

$\bigcirc = 5 + 6$

7

$\bigcirc = 9 + 7$

8

$\bigcirc = 7 + 7$

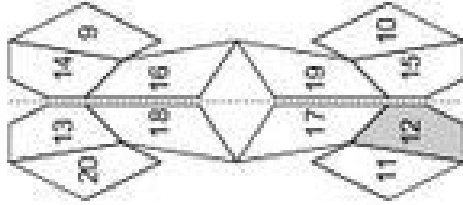
9

$\bigcirc = 8 + 4$

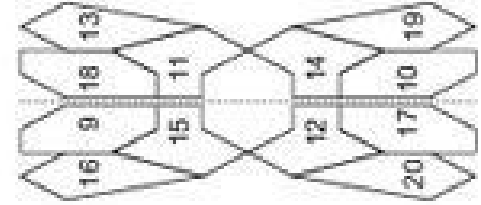
10

$\bigcirc = 9 + 6$

1 → 3



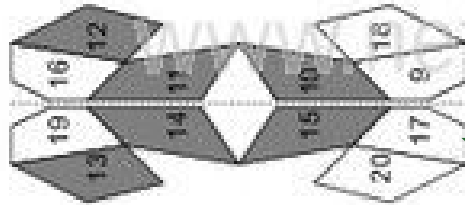
7 → 12



Plusaufgaben mit 4, 5, 6 und 7 (L)

Rechne die Aufgaben aus und schreibe die Lösungen auf! Male links die Felder mit den Lösungszahlen farbig aus!

1 → 3



2

$$7 + 4 = 11$$


3

$$8 + 7 = 15$$

4

$$9 + 5 = 14$$

7 → 12



8

$$15 = 9 + 6$$

9

$$14 = 7 + 7$$

10

$$13 = 9 + 4$$

Plusaufgaben mit 4, 5, 6 und 7 (L)

Rechne die Aufgaben aus und schreibe die Lösungen auf! Male rechts die Felder mit den Lösungszahlen farbig aus!

1

$$8 + 4 = 12$$

3

$$3 + 7 = 10$$

6

$$9 + 4 = 13$$

7

$$11 = 5 + 6$$

9

$$16 = 9 + 7$$

11

$$12 = 8 + 4$$

2

$$9 + 5 = 14$$

4

$$5 + 6 = 11$$

8

$$8 + 7 = 15$$

8

$$13 = 8 + 5$$

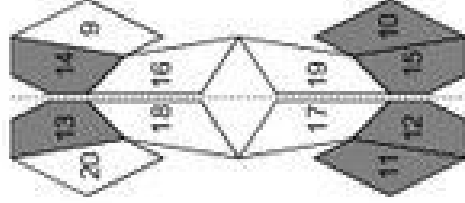
10

$$14 = 7 + 7$$

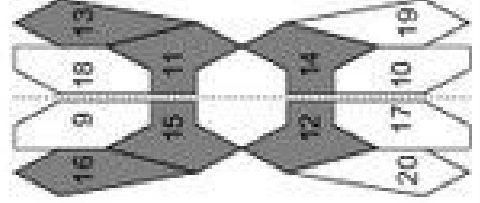
12

$$15 = 9 + 6$$

1 → 3



7 → 12





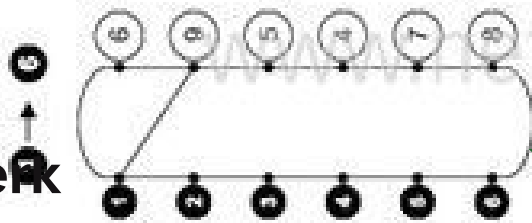
Klasse

Name

Klasse

### Minusaufgaben mit 4, 5, 6 und 7


Rechne die Aufgaben aus und schreibe die Lösungen auf! Verbinde links die Aufgabennummern mit den Lösungszahlen!



1  $13 - 4 = 9$       2  $12 - 6 =$

3  $14 - 7 =$       4  $11 - 7 =$

5  $10 - 5 =$       6  $12 - 4 =$



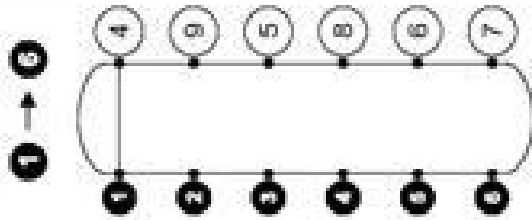
7  $= 13 - 5$       8  $= 11 - 6$

9  $= 10 - 6$       10  $= 14 - 5$

11  $= 12 - 5$       12  $= 13 - 7$

### Minusaufgaben mit 4, 5, 6 und 7

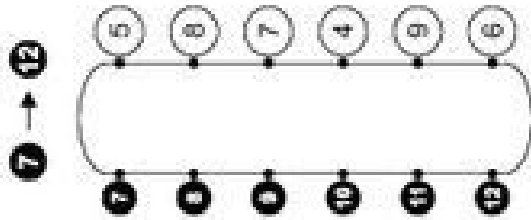
Rechne die Aufgaben aus und schreibe die Lösungen auf! Verbinde rechts die Aufgabennummern mit den Lösungszahlen!



1  $10 - 6 = 4$       2  $14 - 6 =$

3  $11 - 6 =$       4  $16 - 7 =$

5  $14 - 7 =$       6  $11 - 5 =$



7  $= 13 - 6$       8  $= 11 - 7$

9  $= 10 - 5$       10  $= 12 - 4$

11  $= 12 - 6$       12  $= 13 - 4$





Klasse

Name

Klasse

### Minusaufgaben mit 4, 5, 6 und 7 (L)

Rechne die Aufgaben aus und schreibe die Lösungen auf! Verbinde links die Aufgabennummern mit den Lösungszahlen!

$10 \rightarrow 3$   
 $1 \rightarrow 6$   
 $2 \rightarrow 9$   
 $3 \rightarrow 5$   
 $4 \rightarrow 4$   
 $5 \rightarrow 7$   
 $6 \rightarrow 8$   
 $7 \rightarrow 12$

$13 - 4 = 9$   
 $12 - 6 = 6$

$14 - 7 = 7$   
 $11 - 7 = 4$

$10 - 5 = 5$   
 $12 - 4 = 8$

$8 = 13 - 5$   
 $5 = 11 - 6$

$4 = 10 - 6$   
 $9 = 14 - 5$

$7 = 12 - 5$   
 $6 = 13 - 7$

© Michael Jung, Braunschweig 2010

### Minusaufgaben mit 4, 5, 6 und 7 (L)

Rechne die Aufgaben aus und schreibe die Lösungen auf! Verbinde rechts die Aufgabennummern mit den Lösungszahlen!

$1 \rightarrow 3$   
 $2 \rightarrow 9$   
 $3 \rightarrow 5$   
 $4 \rightarrow 8$   
 $5 \rightarrow 6$   
 $6 \rightarrow 7$

$10 - 6 = 4$   
 $14 - 6 = 8$

$11 - 6 = 5$   
 $16 - 7 = 9$

$14 - 7 = 7$   
 $11 - 5 = 6$

$7 = 13 - 6$   
 $4 = 11 - 7$

$5 = 10 - 5$   
 $8 = 12 - 4$

$6 = 12 - 6$   
 $9 = 13 - 4$

$7 \rightarrow 12$   
 $8 \rightarrow 5$   
 $9 \rightarrow 8$   
 $10 \rightarrow 7$   
 $11 \rightarrow 4$   
 $12 \rightarrow 9$   
 $13 \rightarrow 6$

© Michael Jung, Braunschweig 2010

Plus- und Minus mit 4, 5, 6 und 7

Rechne die Aufgaben aus und schreibe die Lösungen auf! Zeichne links Kreise um die Lösungszahlen! Male die Kreise farbig aus!

1 → 3

16	7	12
13		4
14		11
6		15
8	9	5

1 → 3

8 + 6 = 14 = ○

3 → 1

12 - 5 = ○ = 7 + 4 = ○

8 → 3

7 + 6 = ○ = 11 - 7 = ○

→ 12

11	4	
	5	10
		6
7	14	

7 → 9

○ = 11 - 6 = ○ = 8 + 7

9 → 10

○ = 6 + 4 = ○ = 13 - 5

10 → 12

○ = 12 - 6 = ○ = 8 + 4

Plus- und Minus mit 4, 5, 6 und 7

Rechne die Aufgaben aus und schreibe die Lösungen auf! Zeichne rechts Kreise um die Lösungszahlen! Male die Kreise farbig aus!

1 → 3

14	4	9
5		11
10		8
7		12
6	15	13

1 → 3

9 + 6 = 15 = ○ = 12 - 4 = ○

3 → 4

10 - 6 = ○ = 5 + 5 = ○

6 → 8

5 + 7 = ○ = 11 - 4 = ○

7 → 12

11	15	5
9		6
12		10
7		4
14	8	13

7 → 12

○ = 13 - 7 = ○ = 9 + 5

9 → 10

○ = 5 + 6 = ○ = 13 - 4

11 → 12

○ = 12 - 7 = ○ = 9 + 4