

Name: _____ Klasse: _____

Partneraufgaben mit Minus ohne Überschreitung
 Löse die Aufgaben und schreibe die Ergebnisse in die Lösungsfelder!
 Suche dann rechts auf dem Kontrollbild die Lösungszahl! Verbinde jeweils die Aufgabennummer mit der zugehörigen Lösungszahl!

1	$8 - 5 =$	6
2	$4 - 3 =$	0
3	$9 - 4 =$	5
4	$3 - 6 =$	0
5	$9 - 3 =$	6
6	$18 - 5 =$	13
7	$14 - 3 =$	11
8	$19 - 4 =$	15
9	$18 - 6 =$	12
10	$19 - 3 =$	16
11	$16 - 2 =$	1

Kontrollbild

Name: _____ Klasse: _____

Partneraufgaben mit Minus ohne Überschreitung
 Löse die Aufgaben und schreibe die Ergebnisse in die Lösungsfelder!
 Suche dann rechts auf dem Kontrollbild die Lösungszahl! Verbinde jeweils die Aufgabennummer mit der zugehörigen Lösungszahl!

1	$6 - 5 =$	2
2	$8 - 3 =$	5
3	$6 - 4 =$	0
4	$9 - 5 =$	4
5	$7 - 7 =$	12
6	$16 - 5 =$	2
7	$18 - 3 =$	0
8	$16 - 4 =$	10
9	$19 - 5 =$	13
10	$17 - 7 =$	3
11	$9 - 6 =$	10

Kontrollbild



Name:

Klasse:

Partneraufgaben mit Minus ohne Überschreitung (L)

Löse die Aufgaben und schreibe die Ergebnisse in die Lösungsfelder!
Suche dann rechts auf dem Kontrollbild die Lösungszahl! Verbinde jeweils die Aufgabennummer mit der zugehörigen Lösungszahl!

1 $8 - 5 = 3$

2 $4 - 3 = 1$

3 $9 - 4 = 5$

4 $1 - 6 = 2$

5 $1 - 3 = 6$

6 $1 - 2 = 4$

7 $18 - 5 = 13$

8 $14 - 3 = 11$

9 $19 - 4 = 15$

10 $18 - 6 = 12$

11 $19 - 3 = 16$

12 $16 - 2 = 14$

13 $6 - 5 = 1$

14 $8 - 3 = 5$

15 $6 - 4 = 2$

16 $9 - 5 = 4$

17 $7 - 7 = 0$

18 $9 - 6 = 3$

19 $16 - 5 = 11$

20 $18 - 3 = 15$

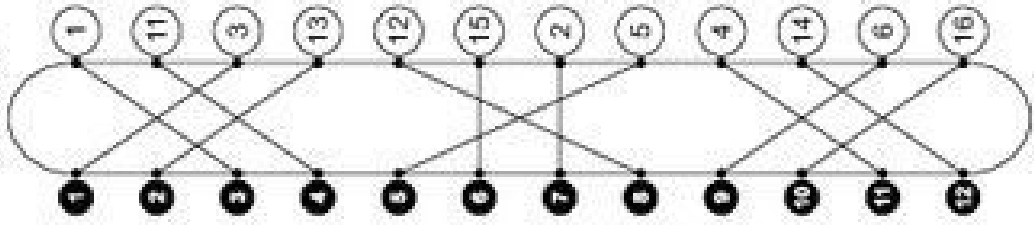
21 $16 - 4 = 12$

22 $19 - 5 = 14$

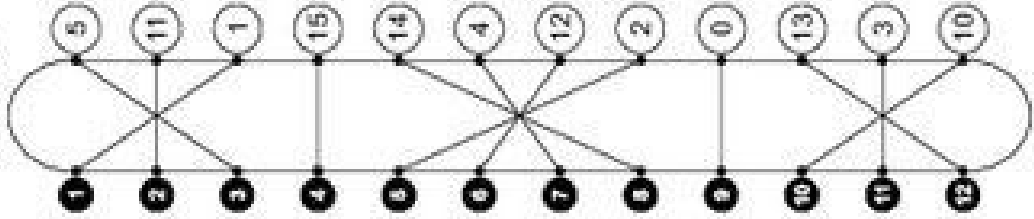
23 $17 - 7 = 10$

24 $19 - 6 = 13$

Kontrollbild



Kontrollbild



Name: _____ Klasse: _____

Plus- und Minusaufgaben ohne Überschreitung
 Löse die Aufgaben und schreibe die Ergebnisse in die Lösungsfelder!
 Suche dann unten auf dem Kontrollbild die Lösungszahl! Zeichne dort in die Feder die bei der Aufgabe angegebenen Symbole!

1	<input type="checkbox"/>	$13+5=$	<input type="checkbox"/>	$14-3=$	<input type="checkbox"/>	$20-6=$	4
2	<input type="checkbox"/>	$13+5=$	<input type="checkbox"/>	$16+4=$	<input type="checkbox"/>	$20-6=$	3
3	<input type="checkbox"/>	$13+5=$	<input type="checkbox"/>	$14-3=$	<input type="checkbox"/>	$20-6=$	2
4	<input type="checkbox"/>	$13+5=$	<input type="checkbox"/>	$14-3=$	<input type="checkbox"/>	$20-6=$	1
5	<input type="checkbox"/>	$15-5=$	<input type="checkbox"/>	$12+7=$	<input type="checkbox"/>	$11+6=$	8
6	<input type="checkbox"/>	$15-5=$	<input type="checkbox"/>	$12+7=$	<input type="checkbox"/>	$11+6=$	7
7	<input type="checkbox"/>	$15-5=$	<input type="checkbox"/>	$12+7=$	<input type="checkbox"/>	$11+6=$	6
8	<input type="checkbox"/>	$15-5=$	<input type="checkbox"/>	$12+7=$	<input type="checkbox"/>	$11+6=$	5
9	<input type="checkbox"/>	$3+3=$	<input type="checkbox"/>	$17-5=$	<input type="checkbox"/>	$17-5=$	11
10	<input type="checkbox"/>	$3+3=$	<input type="checkbox"/>	$17-5=$	<input type="checkbox"/>	$17-5=$	10
11	<input type="checkbox"/>	$3+3=$	<input type="checkbox"/>	$17-5=$	<input type="checkbox"/>	$17-5=$	9
12	<input type="checkbox"/>	$8-3=$	<input type="checkbox"/>	$17-5=$	<input type="checkbox"/>	$17-5=$	12

Kontrollbild

12	11
17	13
14	16
20	18
15	19
10	17
18	14
11	13
16	17
13	10
19	11
17	14

Male gleiche Symbole in den gleichen Farben aus!

5

Name: _____ Klasse: _____

Plus- und Minusaufgaben ohne Überschreitung
 Löse die Aufgaben und schreibe die Ergebnisse in die Lösungsfelder!
 Suche dann unten auf dem Kontrollbild die Lösungszahl! Zeichne dort in die Feder die bei der Aufgabe angegebenen Symbole!

1	<input type="checkbox"/>	$13+6=$	<input type="checkbox"/>	$15-5=$	<input type="checkbox"/>	$19-5=$	4
2	<input type="checkbox"/>	$13+6=$	<input type="checkbox"/>	$15-5=$	<input type="checkbox"/>	$19-5=$	3
3	<input type="checkbox"/>	$13+6=$	<input type="checkbox"/>	$15-5=$	<input type="checkbox"/>	$19-5=$	2
4	<input type="checkbox"/>	$13+6=$	<input type="checkbox"/>	$15-5=$	<input type="checkbox"/>	$19-5=$	1
5	<input type="checkbox"/>	$18-3=$	<input type="checkbox"/>	$14+4=$	<input type="checkbox"/>	$18-6=$	8
6	<input type="checkbox"/>	$18-3=$	<input type="checkbox"/>	$14+4=$	<input type="checkbox"/>	$18-6=$	7
7	<input type="checkbox"/>	$18-3=$	<input type="checkbox"/>	$14+4=$	<input type="checkbox"/>	$18-6=$	6
8	<input type="checkbox"/>	$18-3=$	<input type="checkbox"/>	$14+4=$	<input type="checkbox"/>	$18-6=$	5
9	<input type="checkbox"/>	$12+5=$	<input type="checkbox"/>	$17-4=$	<input type="checkbox"/>	$17-4=$	11
10	<input type="checkbox"/>	$12+5=$	<input type="checkbox"/>	$17-4=$	<input type="checkbox"/>	$17-4=$	10
11	<input type="checkbox"/>	$12+5=$	<input type="checkbox"/>	$17-4=$	<input type="checkbox"/>	$17-4=$	9
12	<input type="checkbox"/>	$13-2=$	<input type="checkbox"/>	$17-4=$	<input type="checkbox"/>	$17-4=$	12

Kontrollbild

20	16
19	13
11	18
12	15
16	17
10	17
18	14
13	10
17	16
15	13
17	14

Male gleiche Symbole in den gleichen Farben aus!

6

Name:

Klasse:

Plus- und Minusaufgaben ohne Überschreitung (Lösung)

Löse die Aufgaben und schreibe die Ergebnisse in die Lösungsfelder! Suche dann unten auf dem Kontrollbild die Lösungszahl! Zeichne dies in die Felder da bei der Aufgabe angegebenen Symbole!

<input type="checkbox"/>	<input type="checkbox"/>	<input type="checkbox"/>	<input type="checkbox"/>	<input type="checkbox"/>
1 $13+5=$ <input type="text"/> (18)	2 $14-3=$ <input type="text"/> (11)	3 $16+4=$ <input type="text"/> (20)	4 $20-6=$ <input type="text"/> (14)	<input type="checkbox"/>
5 $15-5=$ <input type="text"/> (10)	6 $12+7=$ <input type="text"/> (19)	7 $15-2=$ <input type="text"/> (13)	8 $11+6=$ <input type="text"/> (17)	<input type="checkbox"/>
9 $3+3=$ <input type="text"/> (6)	10 $8-3=$ <input type="text"/> (5)	11 $17-5=$ <input type="text"/> (12)	12 $17-5=$ <input type="text"/> (12)	<input type="checkbox"/>

Kontrollbild			
<input type="checkbox"/> 20	<input type="checkbox"/> 12	<input type="checkbox"/> 11	<input type="checkbox"/> 19
<input type="checkbox"/> 17	<input type="checkbox"/> 13	<input type="checkbox"/> 15	<input type="checkbox"/> 18
<input type="checkbox"/> 14	<input type="checkbox"/> 16	<input type="checkbox"/> 18	<input type="checkbox"/> 10
<input type="checkbox"/> 11	<input type="checkbox"/> 20	<input type="checkbox"/> 16	<input type="checkbox"/> 13

Male gleiche Symbole in den gleichen Farben aus!

Name:

Klasse:

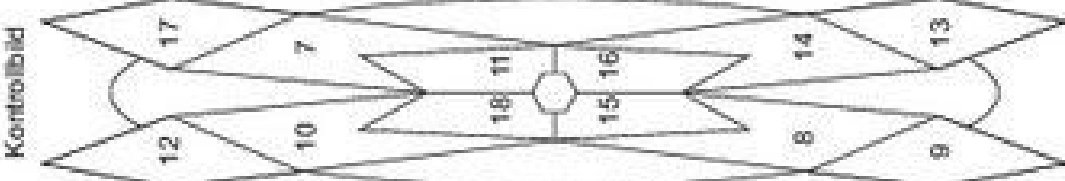
Plus- und Minusaufgaben ohne Überschreitung (Lösung)

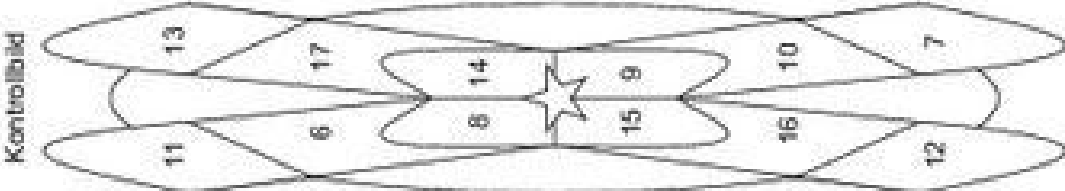
Löse die Aufgaben und schreibe die Ergebnisse in die Lösungsfelder! Suche dann unten auf dem Kontrollbild die Lösungszahl! Zeichne dies in die Felder da bei der Aufgabe angegebenen Symbole!


<input type="checkbox"/>	<input type="checkbox"/>	<input type="checkbox"/>	<input type="checkbox"/>	<input type="checkbox"/>
1 $13+6=$ <input type="text"/> (19)	2 $15-5=$ <input type="text"/> (10)	3 $12+4=$ <input type="text"/> (16)	4 $19-5=$ <input type="text"/> (14)	<input type="checkbox"/>
5 $18-3=$ <input type="text"/> (15)	6 $14+4=$ <input type="text"/> (18)	7 $18-6=$ <input type="text"/> (12)	8 $15+5=$ <input type="text"/> (20)	<input type="checkbox"/>
9 $12+5=$ <input type="text"/> (17)	10 $13-2=$ <input type="text"/> (11)	11 $17-4=$ <input type="text"/> (13)	12 $17-4=$ <input type="text"/> (13)	<input type="checkbox"/>

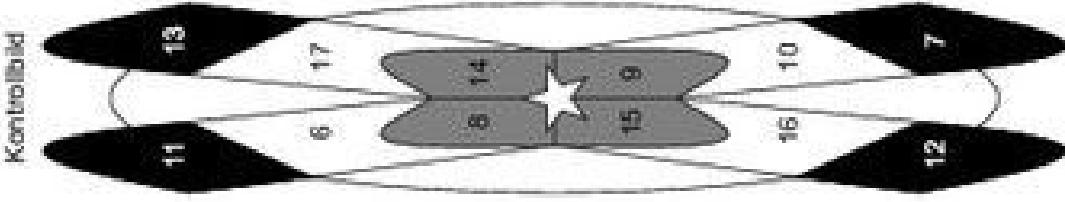
Kontrollbild			
<input type="checkbox"/> 20	<input type="checkbox"/> 12	<input type="checkbox"/> 10	<input type="checkbox"/> 17
<input type="checkbox"/> 19	<input type="checkbox"/> 13	<input type="checkbox"/> 18	<input type="checkbox"/> 14
<input type="checkbox"/> 11	<input type="checkbox"/> 16	<input type="checkbox"/> 18	<input type="checkbox"/> 10
<input type="checkbox"/> 12	<input type="checkbox"/> 20	<input type="checkbox"/> 16	<input type="checkbox"/> 13

Male gleiche Symbole in den gleichen Farben aus!

Name:	Klasse:		
<h3>Plusaufgaben mit Überschreitung</h3> <p>Löse die Aufgaben und schreibe die Ergebnisse in die Lösungsfelder! Suche dann rechts auf dem Kontrollbild die Lösungszahl! Male die Felder in den bei der Aufgabe angegebenen Farben aus!</p>			
<input type="radio"/> blau	<input checked="" type="radio"/> gelb	$7 + 8 = \bigcirc$	$4 + 6 = \bigcirc$
<input checked="" type="radio"/> rot	<input type="radio"/> blau	$8 + 9 = \bigcirc$	$6 + 5 = \bigcirc$
<input type="radio"/> gelb	<input type="radio"/> rot	$6 + 8 = \bigcirc$	$5 + 4 = \bigcirc$
<input checked="" type="radio"/> blau	<input type="radio"/> gelb	$+ 9 = \bigcirc$	$2 + 5 = \bigcirc$
<input type="radio"/> rot	<input type="radio"/> blau	$+ 7 = \bigcirc$	$8 + 8 = \bigcirc$
<input type="radio"/> gelb	<input checked="" type="radio"/> rot	$+ 5 = \bigcirc$	$7 + 6 = \bigcirc$
<p>Kontrollbild</p> 			

Name:	Klasse:		
<h3>Plusaufgaben mit Überschreitung</h3> <p>Löse die Aufgaben und schreibe die Ergebnisse in die Lösungsfelder! Suche dann rechts auf dem Kontrollbild die Lösungszahl! Male die Felder in den bei der Aufgabe angegebenen Farben aus!</p>			
<input checked="" type="radio"/> blau	<input checked="" type="radio"/> gelb	$9 + 4 = \bigcirc$	$8 + 9 = \bigcirc$
<input checked="" type="radio"/> rot	<input type="radio"/> blau	$3 + 6 = \bigcirc$	$4 + 8 = \bigcirc$
<input type="radio"/> gelb	<input type="radio"/> rot	$9 + 7 = \bigcirc$	$4 + 4 = \bigcirc$
<input type="radio"/> blau	<input type="radio"/> gelb	$8 + 3 = \bigcirc$	$1 + 5 = \bigcirc$
<input type="radio"/> rot	<input type="radio"/> blau	$6 + 9 = \bigcirc$	$3 + 4 = \bigcirc$
<input type="radio"/> gelb	<input checked="" type="radio"/> rot	$7 + 3 = \bigcirc$	$9 + 5 = \bigcirc$
<p>Kontrollbild</p> 			

Name:	Klasse:
Plusaufgaben mit Überschreitung (Lösung) Löse die Aufgaben und schreibe die Ergebnisse in die Lösungsfelder! Suche dann rechts auf dem Kontrollbild die Lösungszahl! Male die Felder in den bei der Aufgabe angegebenen Farben aus!	
<input checked="" type="radio"/> blau	<input checked="" type="radio"/> gelb
$7 + 8 = 15$	$4 + 6 = 10$
<input checked="" type="radio"/> rot	<input checked="" type="radio"/> blau
$8 + 9 = 17$	$6 + 5 = 11$
<input checked="" type="radio"/> gelb	<input checked="" type="radio"/> rot
$6 + 8 = 14$	$5 + 4 = 9$
<input checked="" type="radio"/> blau	<input checked="" type="radio"/> gelb
$+ 9 = 18$	$2 + 5 = 7$
<input checked="" type="radio"/> rot	<input checked="" type="radio"/> blau
$+ 7 = 12$	$8 + 8 = 16$
<input checked="" type="radio"/> gelb	<input checked="" type="radio"/> rot
$+ 5 = 8$	$7 + 6 = 13$
Kontrollbild 	

Name:	Klasse:
Plusaufgaben mit Überschreitung (Lösung) Löse die Aufgaben und schreibe die Ergebnisse in die Lösungsfelder! Suche dann rechts auf dem Kontrollbild die Lösungszahl! Male die Felder in den bei der Aufgabe angegebenen Farben aus!	
<input checked="" type="radio"/> blau	<input checked="" type="radio"/> gelb
$9 + 4 = 13$	$8 + 9 = 17$
<input checked="" type="radio"/> rot	<input checked="" type="radio"/> blau
$3 + 6 = 9$	$4 + 8 = 12$
<input checked="" type="radio"/> gelb	<input checked="" type="radio"/> rot
$9 + 7 = 16$	$4 + 4 = 8$
<input checked="" type="radio"/> blau	<input checked="" type="radio"/> gelb
$8 + 3 = 11$	$1 + 5 = 6$
<input checked="" type="radio"/> rot	<input checked="" type="radio"/> blau
$6 + 9 = 15$	$3 + 4 = 7$
<input checked="" type="radio"/> gelb	<input checked="" type="radio"/> rot
$7 + 3 = 10$	$9 + 5 = 14$
Kontrollbild 	

Name: _____ Klasse: _____

Minusaufgaben mit Überschreitung
Löse die Aufgaben und schreibe die Ergebnisse in die Lösungsfelder!
Suche dann rechts auf dem Kontrollbild die Lösungszahl! Verbinde jeweils die Aufgabennummer mit der zugehörigen Lösungszahl!

1	$11 - 7 =$	2
2	$16 - 5 =$	3
3	$18 - 6 =$	4
4	$0 - 8 =$	5
5	$4 - 9 =$	6
6	$0 - 9 =$	7
7	$15 - 6 =$	8
8	$11 - 8 =$	9
9	$13 - 5 =$	10
10	$17 - 7 =$	11
11	$12 - 5 =$	12
12	$13 - 7 =$	13

Kontrollbild

11 9 4 2 8 3 12 7 1 10 5 6

Name: _____ Klasse: _____

Minusaufgaben mit Überschreitung
Löse die Aufgaben und schreibe die Ergebnisse in die Lösungsfelder!
Suche dann rechts auf dem Kontrollbild die Lösungszahl! Verbinde jeweils die Aufgabennummer mit der zugehörigen Lösungszahl!

1	$12 - 7 =$	2
2	$17 - 5 =$	3
3	$16 - 7 =$	4
4	$14 - 4 =$	5
5	$16 - 5 =$	6
6	$12 - 8 =$	7
7	$11 - 9 =$	8
8	$17 - 5 =$	9
9	$12 - 9 =$	10
10	$13 - 6 =$	11
11	$17 - 4 =$	12
12	$14 - 6 =$	13

Kontrollbild

1 2 3 4 5 6 7 8 9 10 11 12 13

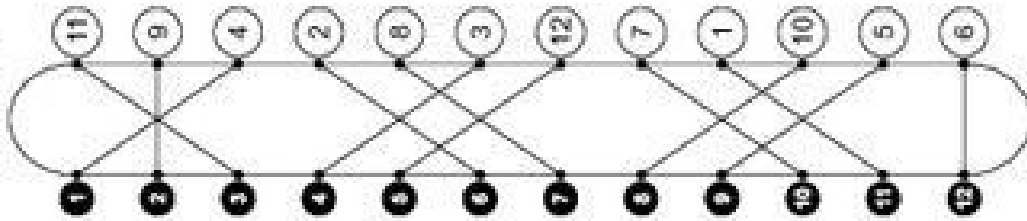
Klasse:

Minusaufgaben mit Überschreitung (Lösung)

Löse die Aufgaben und schreibe die Ergebnisse in die Lösungsfelder!
Suche dann rechts auf dem Kontrollbild die Lösungszahl! Verbinde jeweils die Aufgabennummer mit der zugehörigen Lösungszahl!

1	$11 - 7 = 4$	9	$15 - 6 = 9$
2	$16 - 5 = 11$	0	$11 - 8 = 3$
3	$18 - 6 = 12$	8	$13 - 5 = 8$
4	$0 - 8 = 2$	0	$17 - 7 = 10$
5	$4 - 9 = 5$	10	$12 - 5 = 7$
6	$0 - 9 = 1$	5	$13 - 7 = 6$

Kontrollbild



Name:

Klasse:

Minusaufgaben mit Überschreitung (Lösung)

Löse die Aufgaben und schreibe die Ergebnisse in die Lösungsfelder!
Suche dann rechts auf dem Kontrollbild die Lösungszahl! Verbinde jeweils die Aufgabennummer mit der zugehörigen Lösungszahl!

1	$12 - 7 = 5$	2	$11 - 9 = 2$
3	$17 - 5 = 12$	0	$11 - 5 = 6$
6	$16 - 7 = 9$	0	$12 - 9 = 3$
7	$14 - 4 = 10$	0	$13 - 6 = 7$
8	$16 - 5 = 11$	10	$17 - 4 = 13$
10	$12 - 8 = 4$	8	$14 - 6 = 8$

Kontrollbild

