



Name:

Klasse:

Datum:

# Setze im Kopf zusammen! 2

Finde zu jeder Aufgabe von **A** bis **L** die passende Lösung.  
Schreibe die Lösungszahl in das Feld bei der Aufgabe.  
Verbinde im Kontrollfeld die Lösungspunkte in der Reihenfolge  
der Aufgaben.

**Aufgaben**

<b>A</b> 	<b>B</b> 
<b>C</b> 	<b>D</b> 
<b>E</b> 	<b>F</b> 
<b>G</b> 	<b>H</b> 
<b>I</b> 	<b>J</b> 
<b>K</b> 	<b>L</b> 

**Lösungen**

1	2	3	4
5	6	7	8
9	10	11	12

**Kontrollfeld**

Kontrollbild


© Räumliches Denken - Michael Jung, Brunnenweg 2011



netzwerk  
lernen

3

zur Vollversion



Name:

Klasse:

Datum:

# Setze im Kopf zusammen! 2 (L)


Finde zu jeder Aufgabe von **A** bis **L** die passende Lösung.  
Schreibe die Lösungszahl in das Feld bei der Aufgabe.  
Verbinde im Kontrollfeld die Lösungspunkte in der Reihenfolge  
der Aufgaben.

## Aufgaben

<b>A</b>  7	<b>B</b>  12
<b>C</b>  11	<b>D</b>  5
<b>E</b>  2	<b>F</b>  9
<b>G</b>  8	<b>H</b>  1
<b>I</b>  3	<b>J</b>  6
<b>K</b>  4	<b>L</b>  10

## Kontrollfeld

Kontrollbild



## Lösungen

 1	 2	 3	 4
 5	 6	 7	 8
 9	 10	 11	 12

© Räumliches Denken - Michael Jung, Brunnschweg 2011



netzwerk  
lernen

4

zur Vollversion




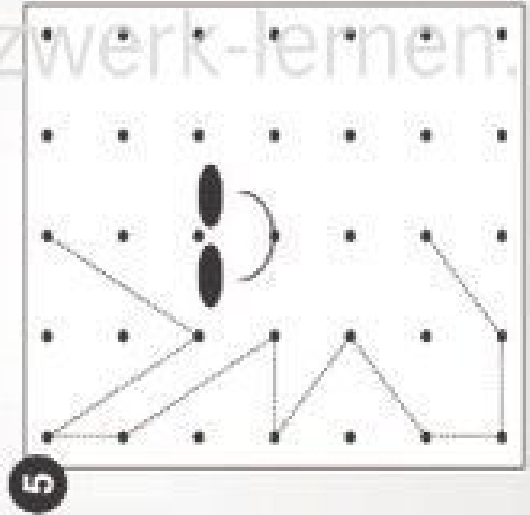
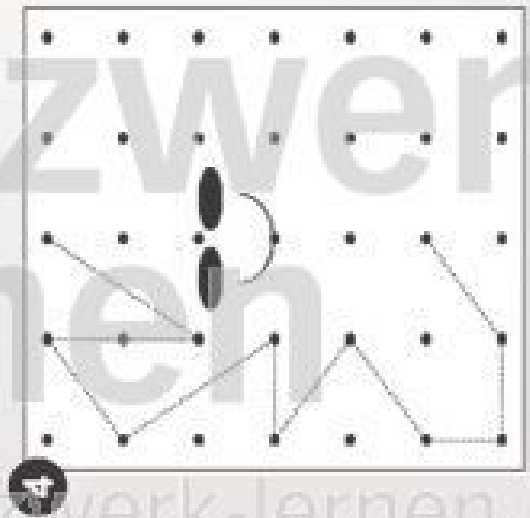

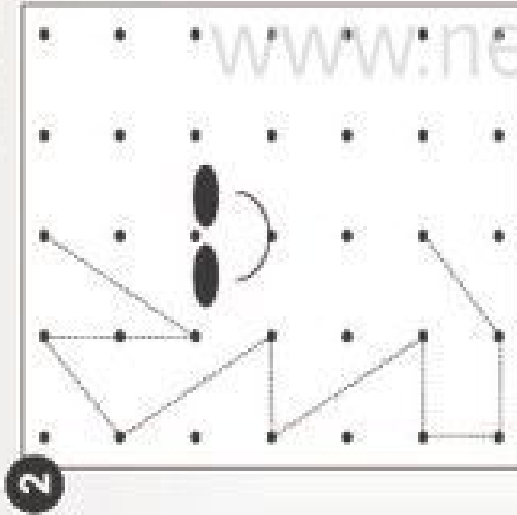
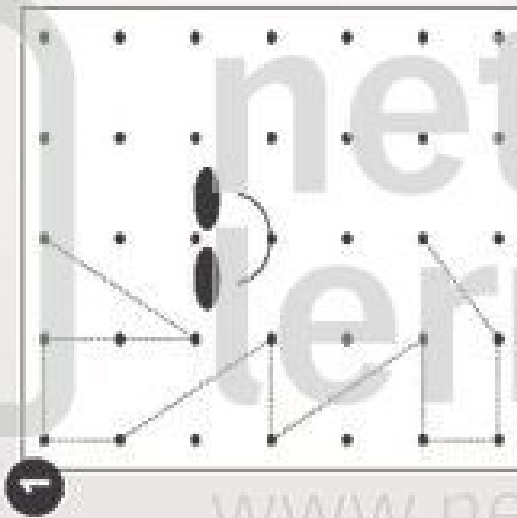
Name:

Klasse:

Datum:

# Gespiegelte Quabbies 1

Zeichne mit Lineal und Bleistift die gepunkteten Linien nach, vervollständige die Zeichnungen und male sie, wenn du willst, farbig aus!






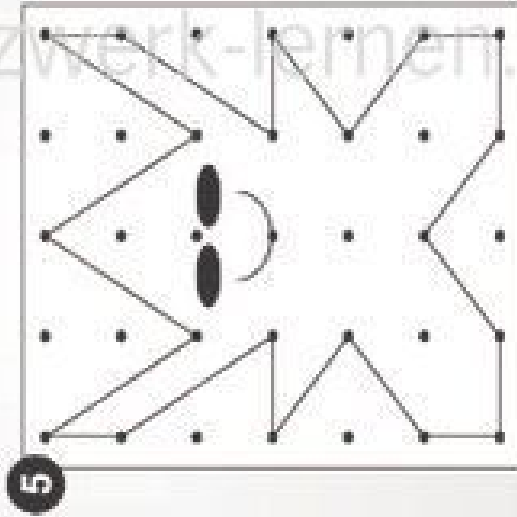
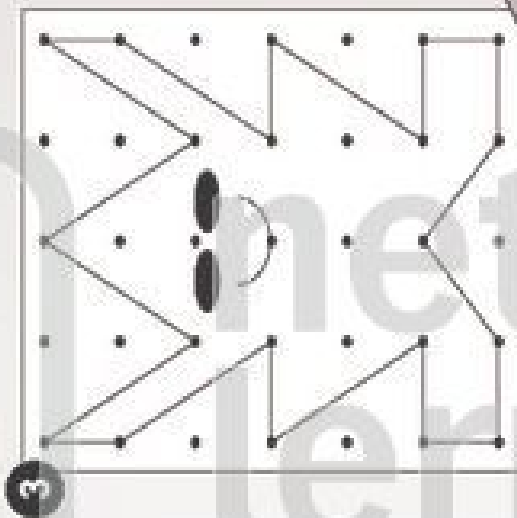
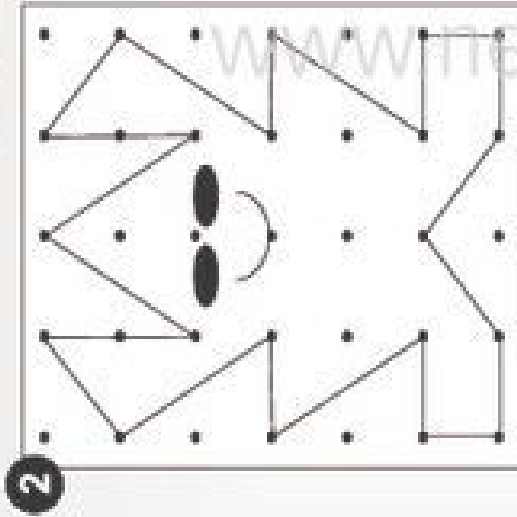
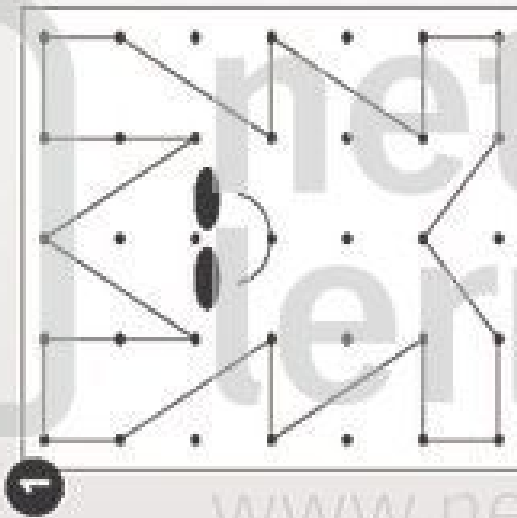
Name:

Klasse:

Datum:

# Gespiegelte Quabbies 1 (L)

Zeichne mit Lineal und Bleistift die gepunkteten Linien nach, vervollständige die Zeichnungen und male sie, wenn du willst, farbig aus!



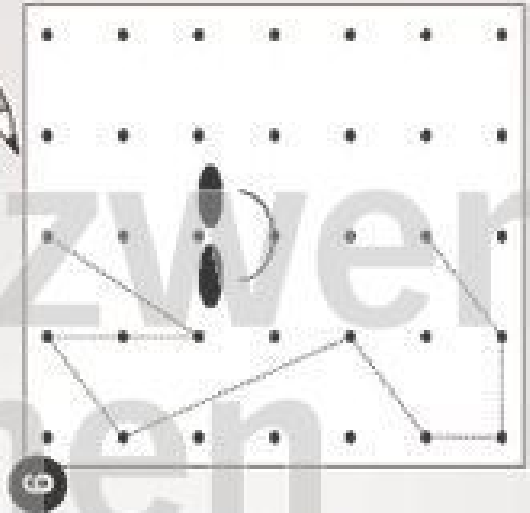
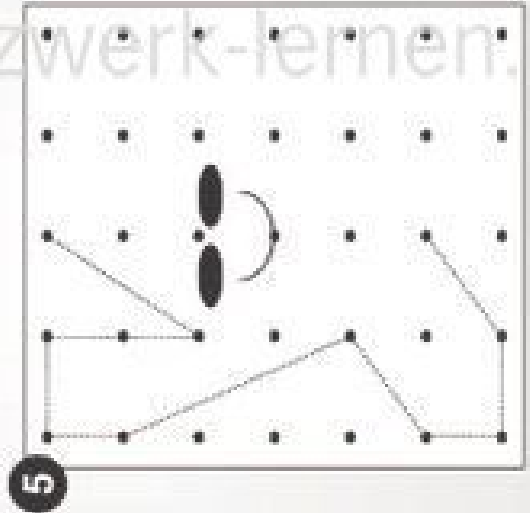
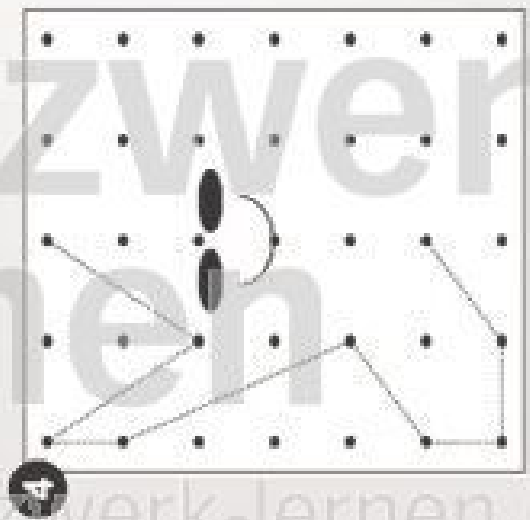
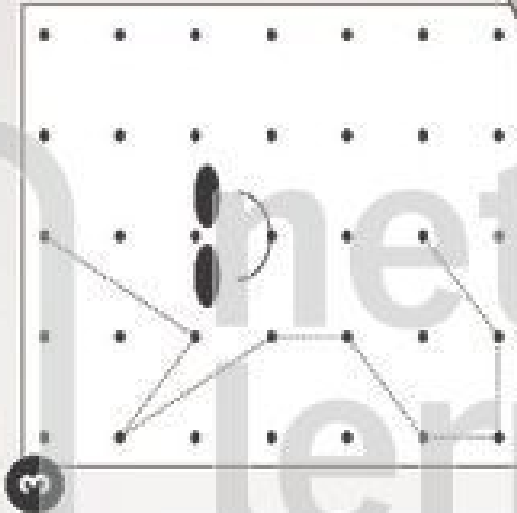
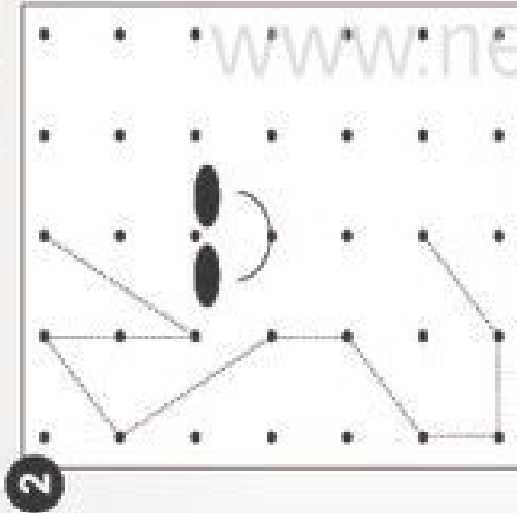
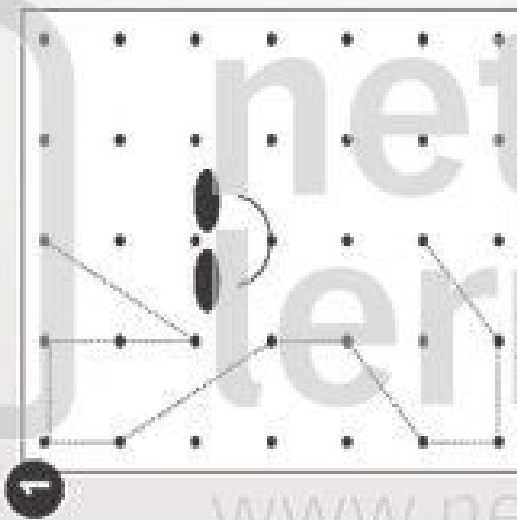
Name:

Datum:

Klasse:

## Gespiegelte Quabbies 2

Zeichne mit Lineal und Bleistift die gepunkteten Linien nach, vervollständige die Zeichnungen und male sie, wenn du willst, farbig aus!





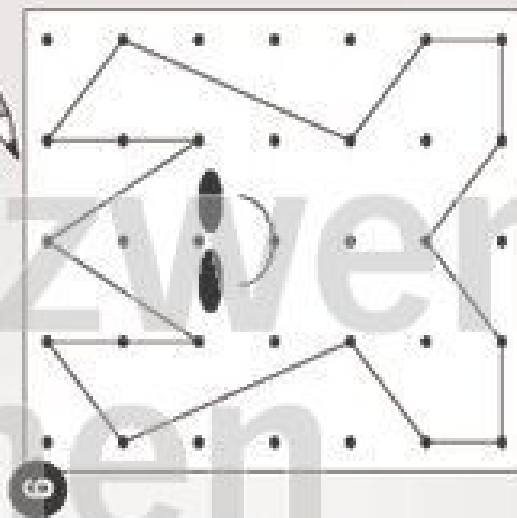
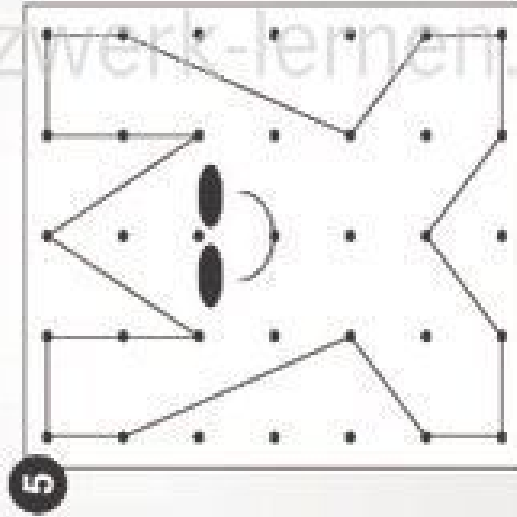
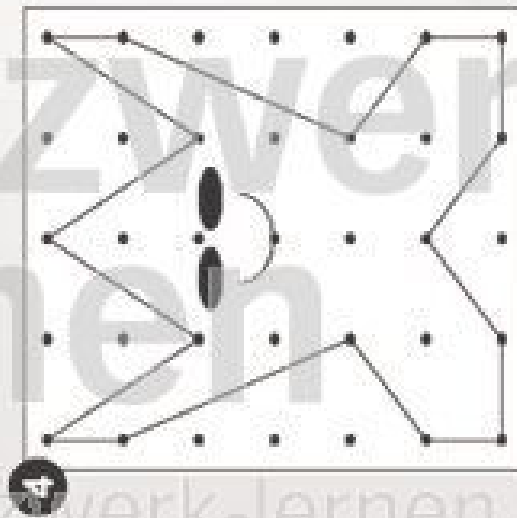
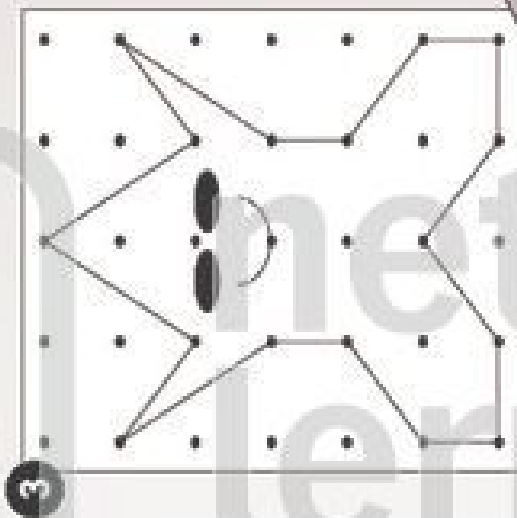
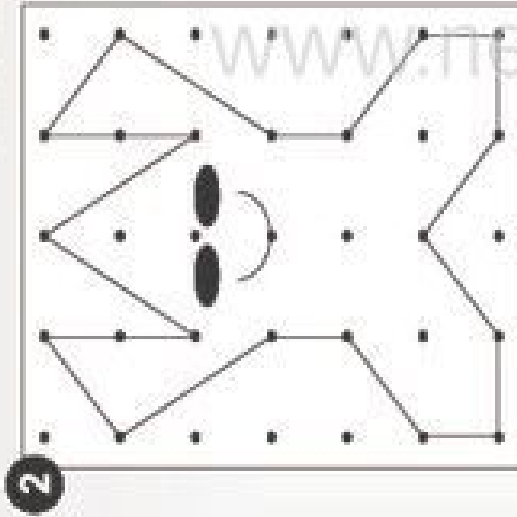
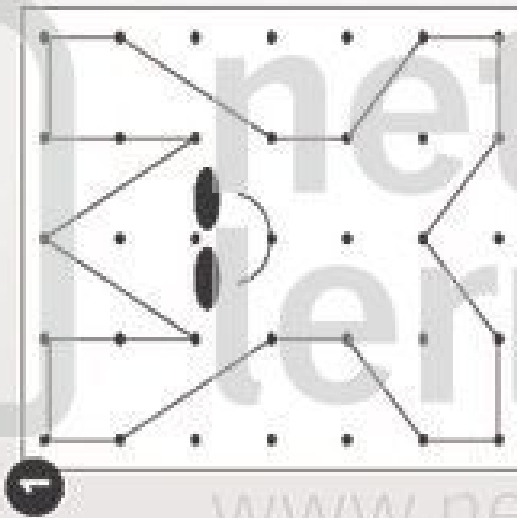
Name:

Klasse:

Datum:

# Gespiegelte Quabbies 2 (L)

Zeichne mit Lineal und Bleistift die gepunkteten Linien nach, vervollständige die Zeichnungen und male sie, wenn du willst, farbig aus!





Name: \_\_\_\_\_

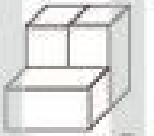
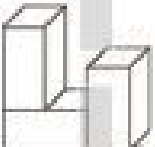
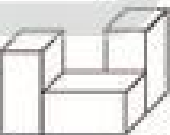
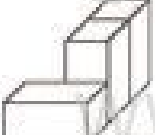
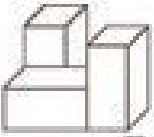
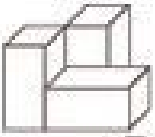
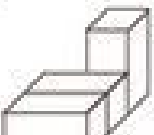
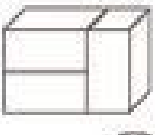
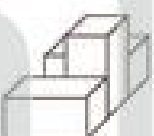
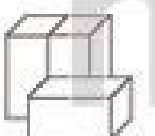
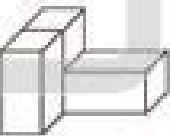
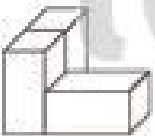
Klasse: \_\_\_\_\_

Datum: \_\_\_\_\_

# Wie sieht das von oben aus? 1

Suche zu jeder Aufgabe von ① bis ⑫ die passende Lösung! Schreibe die Lösungszahl in das Feld unter der Aufgabe! Suche zu jeder Lösungszahl in der Mitte den zugehörigen Kennbuchstaben! Wenn du alles richtig machst, entstehen drei Lösungswörter.

## Aufgaben

①  ⑫	②  ○
③  ○	④  ○
⑤  ○	⑥  ○
⑦  ○	⑧  ○
⑨  ○	⑩  ○
⑪  ○	⑫  ○






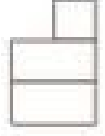
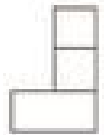



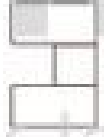

## Kennbuchstaben

7	9	2
A	U	B
3	5	11
R	G	R
4	6	10
U	M	U
1	8	12
S	T	H

## Lösungswörter

①	②	③	④
H			
⑤	⑥	⑦	⑧
⑨	⑩	⑪	⑫

## Lösungen

 4	 9
 5	 7
 8	 3
 1	 12
 11	 6
 2	 10



Name: \_\_\_\_\_

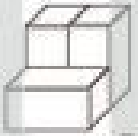
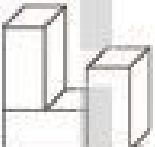
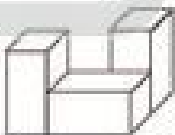
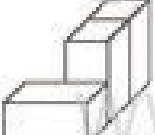
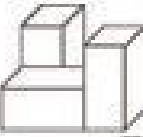
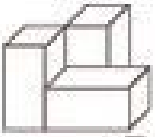
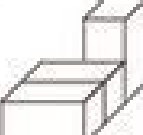
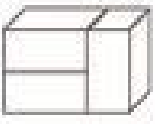
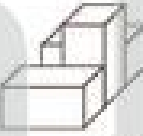
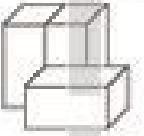
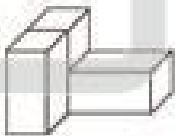
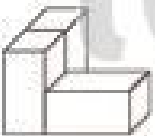
Klasse: \_\_\_\_\_

Datum: \_\_\_\_\_

## Wie sieht das von oben aus? 1 (L)

Suche zu jeder Aufgabe von ① bis ⑫ die passende Lösung! Schreibe die Lösungszahl in das Feld unter der Aufgabe! Suche zu jeder Lösungszahl in der Mitte den zugehörigen Kennbuchstaben! Wenn du alles richtig machst, entstehen drei Lösungswörter.

### Aufgaben

①  ⑫	②  ⑦
③  ⑩	④  ①
⑤  ⑧	⑥  ⑨
⑦  ③	⑧  ⑥
⑨  ②	⑩  ④
⑪  ⑪	⑫  ⑤





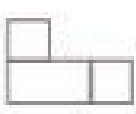
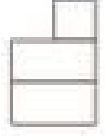
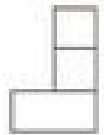
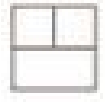


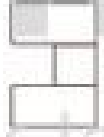

### Kennbuchstaben

7	9	2
A	U	B
3	5	11
R	G	R
4	6	10
U	M	U
1	8	12
S	T	H

### Lösungswörter

①	②	③	④
H	A	U	S
⑤	⑥	⑦	⑧
T	U	R	M
⑨	⑩	⑪	⑫
B	U	R	G

### Lösungen

 4	 9
 5	 7
 8	 3
 1	 12
 11	 6
 2	 10





Name: \_\_\_\_\_

Klasse: \_\_\_\_\_

Datum: \_\_\_\_\_

## Wie sieht das von oben aus? 2

Suche zu jeder Aufgabe von ① bis ⑫ die passende Lösung! Schreibe die Lösungszahl in das Feld unter der Aufgabe! Suche zu jeder Lösungszahl in der Mitte den zugehörigen Kennbuchstaben! Wenn du alles richtig machst, entstehen drei Lösungswörter.

### Aufgaben

①	②
③	④
⑤	⑥
⑦	⑧
⑨	⑩
⑪	⑫

### Kennbuchstaben

10	9	1
L	F	L
3	4	11
O	U	O
2	12	7
D	O	P
5	8	6
G	O	J

### Lösungswörter

①	②	③	④
⑤	⑥	⑦	⑧
⑨	⑩	⑪	⑫

### Lösungen

12	2
5	1
8	3
7	11
4	6
9	10

© Räumliches Denken - Michael Jung, Brunnenweg 2011





Name: \_\_\_\_\_



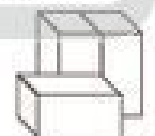



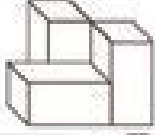
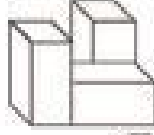

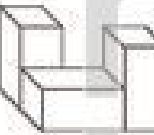

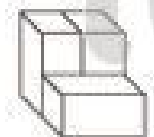
Klasse: \_\_\_\_\_

Datum: \_\_\_\_\_

## Wie sieht das von oben aus? 2 (L)

Suche zu jeder Aufgabe von ① bis ⑫ die passende Lösung! Schreibe die Lösungszahl in das Feld unter der Aufgabe! Suche zu jeder Lösungszahl in der Mitte den zugehörigen Kennbuchstaben! Wenn du alles richtig machst, entstehen drei Lösungswörter.

### Aufgaben

① 	② 
⑤	③
③ 	④ 
⑩	⑨
⑤ 	⑥ 
⑥	④
⑦ 	⑧ 
②	⑧
⑨ 	⑩ 
⑦	⑫
⑪ 	⑫ 
①	⑪













### Kennbuchstaben

10	9	1
L	F	L
3	4	11
O	U	O
2	12	7
D	O	P
5	8	6
G	O	J

### Lösungswörter

①	②	③	④
G	O	L	F
⑤	⑥	⑦	⑧
J	U	D	O
⑨	⑩	⑪	⑫
P	O	L	O

### Lösungen

	
12	2
	
5	1
	
8	3
	
7	11
	
4	6
	
9	10