

Klasse

Name

Plusaufgaben mit 1 (Lösungen)

Rechne die Aufgaben aus und schreibe die Lösungen auf! Male rechts die Felder mit den Lösungszahlen farbig aus!

1 → 2

$$5 + 1 = 6$$

$$0 + 1 = 1$$

3 → 4

$$2 + 1 = 3$$

$$8 + 1 = 9$$

5 → 6

$$7 + 1 = 8$$

$$4 + 1 = 5$$

8 → 9

$$+ 1 = 10$$

$$1 + 1 = 2$$

10 → 11

$$+ 1 = 7$$

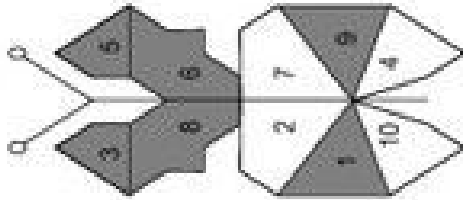
$$3 + 1 = 4$$

12 → 13

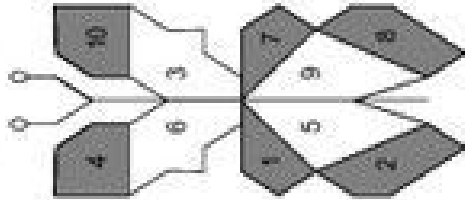
$$+ 1 = 1$$

$$7 + 1 = 8$$

1 → 2



7 → 12



© Michael Jung, Braunschweig 2008

Klasse

Plusaufgaben mit 1 (Lösungen)

Rechne die Aufgaben aus und schreibe die Lösungen auf! Male rechts die Felder mit den Lösungszahlen farbig aus!

1 → 2

$$7 + 1 = 8$$

$$1 + 1 = 2$$

3 → 4

$$5 + 1 = 6$$

$$3 + 1 = 4$$

5 → 6

$$2 + 1 = 3$$

$$8 + 1 = 9$$

7 → 8

$$5 + 1 = 6$$

$$9 + 1 = 10$$

9 → 10

$$0 + 1 = 1$$

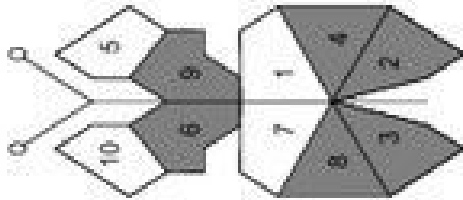
$$4 + 1 = 5$$

11 → 12

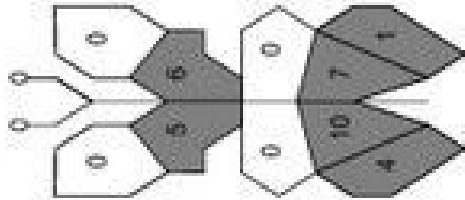
$$6 + 1 = 7$$

$$3 + 1 = 4$$

1 → 2



7 → 12



© Michael Jung, Braunschweig 2008

Name

Klasse

### Minusaufgaben mit 1

Rechne die Aufgaben aus und schreibe die Lösungen auf! Verbinde rechts die Aufgabennummern mit den Lösungszahlen!

1	9 - 1 = <input type="text"/>	2	2 - 1 = <input type="text"/>
3	5 - 1 = <input type="text"/>	4	1 - 1 = <input type="text"/>
5	3 - 1 = <input type="text"/>	6	10 - 1 = <input type="text"/>
7	<input type="text"/> - 1 = <input type="text"/>	8	9 - 1 = <input type="text"/>
9	<input type="text"/> - 1 = <input type="text"/>	10	6 - 1 = <input type="text"/>
11	<input type="text"/> - 1 = <input type="text"/>	12	3 - 1 = <input type="text"/>

1	→	6
1	→	12

1	→	6
2	→	5
3	→	7
4	→	8
5	→	3
6	→	2

© Michael Jung, Braunschweig 2008

Name

Klasse

### Minusaufgaben mit 1

Rechne die Aufgaben aus und schreibe die Lösungen auf! Verbinde rechts die Aufgabennummern mit den Lösungszahlen!

1	4 - 1 = <input type="text"/>	2	6 - 1 = <input type="text"/>
3	2 - 1 = <input type="text"/>	4	9 - 1 = <input type="text"/>
5	7 - 1 = <input type="text"/>	6	5 - 1 = <input type="text"/>
7	1 - 1 = <input type="text"/>	8	3 - 1 = <input type="text"/>
9	10 - 1 = <input type="text"/>	10	8 - 1 = <input type="text"/>
11	2 - 1 = <input type="text"/>	12	4 - 1 = <input type="text"/>

1	→	6
7	→	12

1	→	6
2	→	8
3	→	1
4	→	5
5	→	3
6	→	4

© Michael Jung, Braunschweig 2008

Klasse

Name

### Minusaufgaben mit 1 (Lösungen)

Rechne die Aufgaben aus und schreibe die Lösungen auf! Verbinde rechts die Aufgabennummern mit den Lösungszahlen!

1	9 - 1 = 8	2	2 - 1 = 1
3	5 - 1 = 4	4	1 - 1 = 0
5	3 - 1 = 2	6	10 - 1 = 9
7	6 - 1 = 6	8	9 - 1 = 8
9	3 - 1 = 3	10	6 - 1 = 5
11	7 - 1 = 7	12	3 - 1 = 2

1	4
2	1
3	8
4	9
5	2
6	0

1 → 6

7	6
8	5
9	7
10	8
11	3
12	2

7 → 12

© Michael Jung, Braunschweig 2008

Klasse

### Minusaufgaben mit 1 (Lösungen)

Rechne die Aufgaben aus und schreibe die Lösungen auf! Verbinde rechts die Aufgabennummern mit den Lösungszahlen!

1	4 - 1 = 3	2	6 - 1 = 5
3	2 - 1 = 1	4	9 - 1 = 8
5	7 - 1 = 6	6	5 - 1 = 4
7	1 - 1 = 0	8	3 - 1 = 2
9	10 - 1 = 9	10	8 - 1 = 7
11	2 - 1 = 1	12	4 - 1 = 3

1	6
2	8
3	1
4	5
5	3
6	4

1 → 6

7	0
8	7
9	9
10	2
11	3
12	1

7 → 12

© Michael Jung, Braunschweig 2008

Klasse

Name

Plus- und Minusaufgaben mit 1

Rechne die Aufgaben aus und schreibe die Lösungen auf! Zeichne rechts Kreise um die Lösungszahlen! Male die Kreise farbig aus!

1 → 6

4 + 1 = 5    5 - 1 =

4
10 9 2
6 5 7
0 1 8
3

9 - 1 =    8 + 1 =

0 + 1 =    1 - 1 =

7 → 12

- 1 =    5 + 1 =

3
7 10 2
1 8 4
6 0 9
5

+ 1 =    10 - 1 =

- 1 =    7 + 1 =

© Michael Jung, Braunschweig 2008

Klasse

Plus- und Minusaufgaben mit 1

Rechne die Aufgaben aus und schreibe die Lösungen auf! Zeichne rechts Kreise um die Lösungszahlen! Male die Kreise farbig aus!

1 → 6

5 + 1 = 6    8 - 1 =

5
8 2 7
4 6 1
0 3 10
9

10 - 1 =    7 + 1 =

2 + 1 =    3 - 1 =

7 → 12

1 - 1 =    8 + 1 =

7
1 10 4
8 0 9
3 5 6
2

4 + 1 =    5 - 1 =

9 - 1 =    0 + 1 =

© Michael Jung, Braunschweig 2008

Klasse

Name

Plus- und Minusaufgaben mit 1 (Lösungen)

Rechne die Aufgaben aus und schreibe die Lösungen auf! Zeichne rechts Kreise um die Lösungszahlen! Male die Kreise farbig aus!

1  $4 + 1 = 5$     $5 - 1 = 4$

2  $9 - 1 = 8$     $8 + 1 = 9$

3  $0 + 1 = 1$     $1 - 1 = 0$

1 → 6

4		
10	9	2
6	5	7
0	1	8
3		

4  $-1 = 2$     $5 + 1 = 6$

5  $+1 = 3$     $10 - 1 = 9$

6  $-1 = 7$     $7 + 1 = 8$

7 → 12

3		
7	10	2
1	8	4
6	0	9
5		

© Michael Jung, Braunschweig 2008

Klasse

Plus- und Minusaufgaben mit 1 (Lösungen)

Rechne die Aufgaben aus und schreibe die Lösungen auf! Zeichne rechts Kreise um die Lösungszahlen! Male die Kreise farbig aus!

1  $5 + 1 = 6$     $8 - 1 = 7$

2  $10 - 1 = 9$     $7 + 1 = 8$

3  $2 + 1 = 3$     $3 - 1 = 2$

1 → 6

5		
8	2	7
4	6	1
0	3	10
9		

4  $1 - 1 = 0$     $8 + 1 = 9$

5  $4 + 1 = 5$     $5 - 1 = 4$

6  $9 - 1 = 8$     $0 + 1 = 1$

7 → 12

7		
1	10	4
8	0	9
3	5	6
2		

© Michael Jung, Braunschweig 2008

Klasse

Name

Plusaufgaben mit 2

Rechne die Aufgaben aus und schreibe die Lösungen auf! Male rechts die Felder mit den Lösungszahlen farbig aus!

1

$8 + 2 = 10$

2

$2 + 2 = \bigcirc$

3

$0 + 2 = \bigcirc$

4

$5 + 2 = \bigcirc$

5

$1 + 2 = \bigcirc$

6

$4 + 2 = \bigcirc$

7

$\bigcirc + 2 = \bigcirc$

8

$8 + 2 = \bigcirc$

9

$\bigcirc + 2 = \bigcirc$

10

$0 + 2 = \bigcirc$

11

$\bigcirc + 2 = \bigcirc$

12

$5 + 2 = \bigcirc$

1

2

3

4

5

6

7

8

9

10

11

12

13

14

15

16

17

18

19

20

21

22

23

24

25

26

27

28

29

30

31

32

33

34

35

36

37

38

39

40

41

42

43

44

45

46

47

48

49

50

51

52

53

54

55

56

57

58

59

60

61

62

63

64

65

66

67

68

69

70

71

72

73

74

75

76

77

78

79

80

81

82

83

84

85

86

87

88

89

90

91

92

93

94

95

96

97

98

99

100

101

102

103

104

105

106

107

108

109

110

111

112

113

114

115

116

117

118

119

120

121

122

123

124

125

126

127

128

129

130

131

132

133

134

135

136

137

138

139

140

141

142

143

144

145

146

147

148

149

150

151

152

153

154

155

156

157

158

159

160

161

162

163

164

165

166

167

168

169

170

171

172

173

174

175

176

177

178

179

180

181

182

183

184

185

186

187

188

189

190

191

192

193

194

195

196

197

198

199

200

201

202

203

204

205

206

207

208

209

210

211

212

213

214

215

216

217

218

219

220

221

222

223

224

225

226

227

228

229

230

231

232

233

234

235

236

237

238

239

240

241

242

243

244

245

246

247

248

249

250

251

252

253

254

255

256

257

258

259

260

261

262

263

264

265

266

267

268

269

270

271

272

273

274

275

276

277

278

279

Klasse

Name

Plusaufgaben mit 2 (Lösungen)

Rechne die Aufgaben aus und schreibe die Lösungen auf! Male rechts die Felder mit den Lösungszahlen farbig aus!

1  $8 + 2 = 10$

2  $2 + 2 = 4$

3  $0 + 2 = 2$

4  $5 + 2 = 7$

5  $1 + 2 = 3$

6  $4 + 2 = 6$

7  $+ 2 = 8$

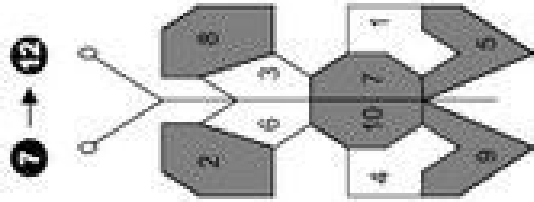
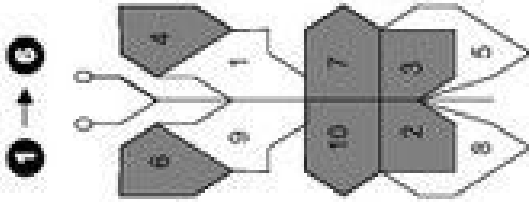
8  $8 + 2 = 10$

9  $+ 2 = 5$

10  $0 + 2 = 2$

11  $+ 2 = 9$

12  $5 + 2 = 7$



© Michael Jung, Braunschweig 2008

Klasse

Plusaufgaben mit 2 (Lösungen)

Rechne die Aufgaben aus und schreibe die Lösungen auf! Male rechts die Felder mit den Lösungszahlen farbig aus!

1  $5 + 2 = 7$

2  $7 + 2 = 9$

3  $3 + 2 = 5$

4  $8 + 2 = 10$

5  $0 + 2 = 2$

6  $6 + 2 = 8$

7  $4 + 2 = 6$

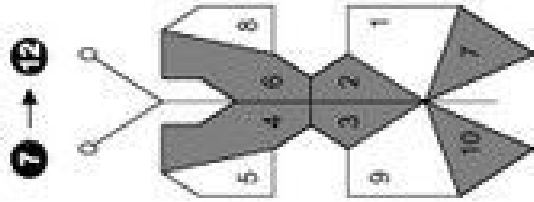
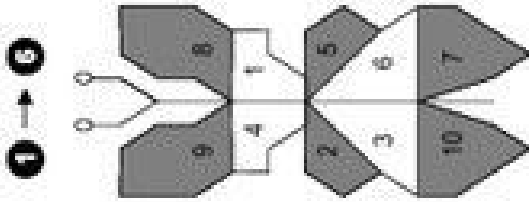
8  $1 + 2 = 3$

9  $5 + 2 = 7$

10  $2 + 2 = 4$

11  $8 + 2 = 10$

12  $0 + 2 = 2$



© Michael Jung, Braunschweig 2008



Netzwerk lernen

zur Vollversion

Klasse

Name

Klasse

### Minusaufgaben mit 2

Rechne die Aufgaben aus und schreibe die Lösungen auf! Verbinde rechts die Aufgabennummern mit den Lösungszahlen!

1	8 - 2 =	2	4 - 2 =	1 → 6
3	9 - 2 =	4	2 - 2 =	2
5	5 - 2 =	6	10 - 2 =	6
7	1 - 2 =	8	7 - 2 =	7
9	1 - 2 =	10	9 - 2 =	8
11	0 - 2 =	12	6 - 2 =	4
				0
				7

© Michael Jung, Braunschweig 2008

### Minusaufgaben mit 2

Rechne die Aufgaben aus und schreibe die Lösungen auf! Verbinde rechts die Aufgabennummern mit den Lösungszahlen!

1	6 - 2 =	2	2 - 2 =	1 → 6
3	3 - 2 =	4	10 - 2 =	4
6	7 - 2 =	6	9 - 2 =	8
7	8 - 2 =	8	5 - 2 =	7
9	9 - 2 =	10	4 - 2 =	2
11	2 - 2 =	12	10 - 2 =	6
				3
				8
				0

© Michael Jung, Braunschweig 2008





lernen  
netzwerk

zur Vollversion

Name

Klasse

### Minusaufgaben mit 2 (Lösungen)

Rechne die Aufgaben aus und schreibe die Lösungen auf! Verbinde rechts die Aufgabennummern mit den Lösungszahlen!

1 → 6

1 2 → 6

2 1 → 5

3 2 → 1

4 3 → 8

5 4 → 0

6 5 → 7

7 6 → 12

8 7 → 5

9 8 → 1

10 9 → 8

11 10 → 4

12 11 → 0

13 12 → 7

© Michael Jung, Braunschweig 2008

Name

Klasse

### Minusaufgaben mit 2 (Lösungen)

Rechne die Aufgaben aus und schreibe die Lösungen auf! Verbinde rechts die Aufgabennummern mit den Lösungszahlen!

1 → 6

1 2 → 6

2 1 → 5

3 2 → 1

4 3 → 8

5 4 → 0

6 5 → 7

7 6 → 12

8 7 → 5

9 8 → 1

10 9 → 8

11 10 → 4

12 11 → 0

13 12 → 7

© Michael Jung, Braunschweig 2008

### Plus- und Minusaufgaben mit 2

Rechne die Aufgaben aus und schreibe die Lösungen auf! Zeichne rechts Kreise um die Lösungszahlen! Male die Kreise farbig aus!

1 → 6

6 + 2 = 8    4 - 2 =

1	10	9
0	2	3
7	6	8
4		5

7 - 2 =    8 + 2 =

5 + 2 =    8 - 2 =

7 → 12

- 2 =    4 + 2 =

9		
3	1	5
7	2	8
6	10	0
		4

+ 2 =    2 - 2 =

- 2 =    7 + 2 =

### Plus- und Minusaufgaben mit 2

Rechne die Aufgaben aus und schreibe die Lösungen auf! Zeichne rechts Kreise um die Lösungszahlen! Male die Kreise farbig aus!

1 → 6

7 + 2 = 9    2 - 2 =

1	4	0
8	9	7
3	10	5
6		2

5 - 2 =    4 + 2 =

3 + 2 =    3 - 2 =

7 → 12

8 - 2 =    5 + 2 =

0		
9	7	1
2	10	6
3	5	4
		8

6 + 2 =    4 - 2 =

7 - 2 =    8 + 2 =