

A

Partnerhaft
2 jffH
2 jffH
2 jffH
2 jffH

Partnerhaft
2 jffH
2 jffH
2 jffH
2 jffH

Partnerhaft
2 jffH
2 jffH
2 jffH
2 jffH

Partnerhaft
2 jffH
2 jffH
2 jffH
2 jffH

A Wie viel ist 4 geteilt durch 2?	2
B Wie viel ist 12 geteilt durch 2?	6
C Wie viel ist 8 geteilt durch 2?	4
D Wie viel ist 18 geteilt durch 2?	9

1a

Partnerhaft
2 jffH
2 jffH
2 jffH
2 jffH

Partnerhaft
2 jffH
2 jffH
2 jffH
2 jffH

Partnerhaft
2 jffH
2 jffH
2 jffH
2 jffH

Partnerhaft
2 jffH
2 jffH
2 jffH
2 jffH

Partnerhaft
2 jffH
2 jffH
2 jffH
2 jffH

Partnerhaft
2 jffH
2 jffH
2 jffH
2 jffH

Partnerhaft
2 jffH
2 jffH
2 jffH
2 jffH

Partnerhaft
2 jffH
2 jffH
2 jffH
2 jffH

B

E Wie viel ist 2 geteilt durch 2?	1
F wie viel ist 16 geteilt durch 2?	8
G Wie viel ist 0 geteilt durch 2?	0
H Wie viel ist 10 geteilt durch 2?	5

2a

Partnerhaft
2 jffH
2 jffH
2 jffH
2 jffH

Partnerhaft
2 jffH
2 jffH
2 jffH
2 jffH

Partnerhaft
2 jffH
2 jffH
2 jffH
2 jffH

Partnerhaft
2 jffH
2 jffH
2 jffH
2 jffH

A Wie viel ist 6 geteilt durch 2?	3
B Wie viel ist 10 geteilt durch 2?	5
C Wie viel ist 0 geteilt durch 2?	0
D Wie viel ist 16 geteilt durch 2?	8

1b

Partnerhaft
2 jffH
2 jffH
2 jffH
2 jffH

Partnerhaft
2 jffH
2 jffH
2 jffH
2 jffH

Partnerhaft
2 jffH
2 jffH
2 jffH
2 jffH

Partnerhaft
2 jffH
2 jffH
2 jffH
2 jffH

E Wie viel ist 4 geteilt durch 2?	2
F Wie viel ist 20 geteilt durch 2?	10
G Wie viel ist 8 geteilt durch 2?	4
H Wie viel ist 12 geteilt durch 2?	6

2b

I Wie viel ist 6 geteilt durch 2?	3
J Wie viel ist 14 geteilt durch 2?	7
K Wie viel ist 20 geteilt durch 2?	10

3a

L Wie viel ist 2 geteilt durch 2?	1
M Wie viel ist 2 geteilt durch 2?	1
N Wie viel ist 2 geteilt durch 2?	1
O Wie viel ist 2 geteilt durch 2?	1

3c

A


Handwritten text in German, partially obscured and mirrored.

1. Teil
3. Teil



A	24 geteilt durch 3 ist wie viel?	8
B	12 geteilt durch 3 ist wie viel?	4
C	27 geteilt durch 3 ist wie viel?	9
D	18 geteilt durch 3 ist wie viel?	6

1a



Teilaufgaben zum Erinnern der 3. Hälfte

Handwritten text in German, partially obscured and mirrored.

B

E	6 geteilt durch 3 ist wie viel?	2
F	30 geteilt durch 3 ist wie viel?	10
G	9 geteilt durch 3 ist wie viel?	3
H	0 geteilt durch 3 ist wie viel?	0

2a

A	9 geteilt durch 3 ist wie viel?	3
B	3 geteilt durch 3 ist wie viel?	1
C	24 geteilt durch 3 ist wie viel?	8
D	15 geteilt durch 3 ist wie viel?	5

1b

E	0 geteilt durch 3 ist wie viel?	
F	21 geteilt durch 3 ist wie viel?	
G	30 geteilt durch 3 ist wie viel?	
H	12 geteilt durch 3 ist wie viel?	

2b

I	21 geteilt durch 3 ist wie viel?	7
J	3 geteilt durch 3 ist wie viel?	1
K	15 geteilt durch 3 ist wie viel?	5

3a

Ende

Ende

Ende		Ende
2	21 geteilt durch 3 ist wie viel?	7
9	9 geteilt durch 3 ist wie viel?	3
6	18 geteilt durch 3 ist wie viel?	6

3c

Ende


A

Partnerheit
2 2

3 jap suieimurij
unz uegfneiel


2 jfjH

Wie viele Partner / deiner Partnerin die 11 Aufgaben auf den folgenden 3 Seiten vor und überprüfe, ob seine / ihre Antworten richtig sind. Drehe anschließend das Heft um und lass dir durch von deinem Partner / deiner Partnerin die anderen 11 Aufgaben vorstellen.



A Wie viel ist 15 geteilt durch 3?	5
B Wie viel ist 3 geteilt durch 3?	1
C Wie viel ist 21 geteilt durch 3?	7
D Wie viel ist 0 geteilt durch 3?	0

1a



Teilaufgaben zum Ermalens der 3 Heft 2

Wie dieses Partner / deiner Partnerin die 11 Aufgaben auf den folgenden 3 Seiten vor und überprüfe, ob seine / ihre Antworten richtig sind. Drehe anschließend das Heft um und lass dir durch von deinem Partner / deiner Partnerin die anderen 11 Aufgaben vorstellen.

B

E Wie viel ist 9 geteilt durch 3?	3
F wie viel ist 30 geteilt durch 3?	10
G Wie viel ist 6 geteilt durch 3?	2
H Wie viel ist 18 geteilt durch 3?	6

2a

A Wie viel ist 6 geteilt durch 3?	2
B Wie viel ist 18 geteilt durch 3?	6
C Wie viel ist 27 geteilt durch 3?	9
D Wie viel ist 12 geteilt durch 3?	4

1b

E Wie viel ist 30 geteilt durch 3?	10
F Wie viel ist 21 geteilt durch 3?	7
G Wie viel ist 0 geteilt durch 3?	0
H Wie viel ist 15 geteilt durch 3?	5

2b

I Wie viel ist 27 geteilt durch 3?	9
J Wie viel ist 12 geteilt durch 3?	4
K Wie viel ist 24 geteilt durch 3?	8

3a

QC Wie viel ist 6 geteilt durch 3?	2
QD Wie viel ist 24 geteilt durch 3?	8


QC

A

von 100

Partner / Partnerin
Partner / Partnerin
Partner / Partnerin
Partner / Partnerin
Partner / Partnerin
Partner / Partnerin
Partner / Partnerin
Partner / Partnerin
Partner / Partnerin
Partner / Partnerin

4 Hektar
3 Hektar
3 Hektar
3 Hektar
3 Hektar
3 Hektar
3 Hektar
3 Hektar
3 Hektar
3 Hektar



- A** 3 ist
15 geteilt durch
wie viel? 5
- B** 3 ist
3 geteilt durch
wie viel? 1
- C** 3 ist
21 geteilt durch
wie viel? 7
- D** 3 ist
9 geteilt durch
wie viel? 3

1a



Teilaufgaben zum
Ermitteln der 3
Hektar

Lesen diesem Partner / deiner Partnerin
die 10 Aufgaben auf den folgenden
3 Seiten vor und überprüfe, ob seine /
ihre Antworten richtig sind. Durch
anschaun und das Heft um und lass
die durch von deinem Partner / deiner
Partnerin die anderen 10 Aufgaben
vorlesen.

B

- E** 3 ist
24 geteilt durch
wie viel? 8
- F** 3 ist
30 geteilt durch
wie viel? 10
- G** 3 ist
6 geteilt durch
wie viel? 2
- H** 3 ist
18 geteilt durch
wie viel? 6

2a

- A** 3 ist
6 geteilt durch
wie viel? 2
- B** 3 ist
18 geteilt durch
wie viel? 6
- C** 3 ist
27 geteilt durch
wie viel? 9
- D** 3 ist
12 geteilt durch
wie viel? 4

1b

- E** 3 ist
30 geteilt durch
wie viel? 10
- F** 3 ist
21 geteilt durch
wie viel? 7
- G** 3 ist
9 geteilt durch
wie viel? 3
- H** 3 ist
15 geteilt durch
wie viel? 5

2b

- I** 3 ist
27 geteilt durch
wie viel? 9
- J** 3 ist
12 geteilt durch
wie viel? 4

Ende

3a

- 1
durch
wie viel?
3
- 8
durch
wie viel?
3

3c

A

Partnerteil
 1. Partner
 2. Partner
 3. Partner
 4. Partner
 5. Partner
 6. Partner
 7. Partner
 8. Partner
 9. Partner
 10. Partner

1. Partner
 2. Partner
 3. Partner
 4. Partner
 5. Partner
 6. Partner
 7. Partner
 8. Partner
 9. Partner
 10. Partner



A	8 geteilt durch 4 ist wie viel?	2
B	32 geteilt durch 4 ist wie viel?	8
C	16 geteilt durch 4 ist wie viel?	4
D	40 geteilt durch 4 ist wie viel?	10

1a

Partnerteil
 1. Partner
 2. Partner
 3. Partner
 4. Partner
 5. Partner
 6. Partner
 7. Partner
 8. Partner
 9. Partner
 10. Partner

Teilaufgaben zum
Ermitteln der 4
Helfer 1

Lesen diesem Partner / deiner Partnerin die 11 Aufgaben auf den folgenden 3 Seiten vor und überprüfe, ob seine / ihre Antworten richtig sind. Deine anschließend das Heft um und lass die durch von deinem Partner / deiner Partnerin die anderen 11 Aufgaben vorlesen.

B

E	24 geteilt durch 4 ist wie viel?	6
F	0 geteilt durch 4 ist wie viel?	0
G	4 geteilt durch 4 ist wie viel?	1
H	36 geteilt durch 4 ist wie viel?	9

2a

© GehirnJogging für Kinder - Michael Jung, Braunschweig

Partnerteil
 1. Partner
 2. Partner
 3. Partner
 4. Partner
 5. Partner
 6. Partner
 7. Partner
 8. Partner
 9. Partner
 10. Partner

A	0 geteilt durch 4 ist wie viel?	0
B	16 geteilt durch 4 ist wie viel?	4
C	8 geteilt durch 4 ist wie viel?	2
D	12 geteilt durch 4 ist wie viel?	3

1b

Partnerteil
 1. Partner
 2. Partner
 3. Partner
 4. Partner
 5. Partner
 6. Partner
 7. Partner
 8. Partner
 9. Partner
 10. Partner

E	32 geteilt durch 4 ist wie viel?	8
F	24 geteilt durch 4 ist wie viel?	6
G	36 geteilt durch 4 ist wie viel?	9
H	4 geteilt durch 4 ist wie viel?	1

2b

I	28 geteilt durch 4 ist wie viel?	7
J	20 geteilt durch 4 ist wie viel?	5
K	12 geteilt durch 4 ist wie viel?	3

3a

Ende

QC	5 ?leia eiw lletelb 02	5
	7 ?leia eiw lletelb 82	7
	01 ?leia eiw lletelb 0p	01

QC

A

vorher
 ungeteilt 01, was man sich immer
 Partner / Partnerin immer von dem
 sein und um ihn sich zu kümmern
 auch das ist ein wichtiger Teil
 / eines so, und das ist ein wichtiger
 ungeteilt sein für ungeteilt 01
 Partner / Partnerin immer sein

3 JFH
 4 ap suerum
 umz ungeteilt



A 20 geteilt durch wie viel ist 4?	5
B 8 geteilt durch wie viel ist 4?	2
C 16 geteilt durch wie viel ist 4?	4
D 12 geteilt durch wie viel ist 4?	3

1a

Partnerheit
 Lesen (laut)
 zu zweit

Teilaufgaben zum Ermalens der 4 Heft 3

Lesen diesem Partner / deiner Partnerin die 10 Aufgaben auf den folgenden 3 Seiten vor und überprüfe, ob sie / ihre Antworten richtig sind. Diskutiere anschließend das Heft um und lass die dazu von deinem Partner / deiner Partnerin die anderen 10 Aufgaben verstehen.

B

E 32 geteilt durch wie viel ist 4?	8
F 24 geteilt durch wie viel ist 4?	6
G 36 geteilt durch wie viel ist 4?	9
H 4 geteilt durch wie viel ist 4?	1

2a

3) Gehirn Jogging für Kinder - Michel Jung, Braunschweig

A 8 geteilt durch wie viel ist 4?
 2 |

B 32 geteilt durch wie viel ist 4?
 8 |

C 12 geteilt durch wie viel ist 4?
 3 |

D 40 geteilt durch wie viel ist 4?
 10 |

1b

E 24 geteilt durch wie viel ist 4?
 6 |

F 16 geteilt durch wie viel ist 4?
 4 |

G 4 geteilt durch wie viel ist 4?
 1 |

H 36 geteilt durch wie viel ist 4?
 9 |

2b

Ende

I 40 geteilt durch wie viel ist 4?
 10 |

J 28 geteilt durch wie viel ist 4?
 7 |

3a

apuz

9 27 ist

5 16 ist ein qum 11 ist 5 02

2 27 ist

7 16 ist ein qum 11 ist 5 82

3c