


Plusaufgaben mit 3, 4 und 5 (Lösungen)

Rechne die Aufgaben aus und schreibe die Lösungen auf! Male links die Felder mit den Lösungszahlen farbig aus!

1 → 3



1

+	3	14	17

2

+	5	15	20

3

+	4	11	15

4

+	5	13	18


5

+	4	12	16

6

+	3	16	19

7 → 12



7

+	4	16	20

8

+	5	14	19

9

+	3	11	14

10

+	3	13	16

11

+	4	14	18


12

+	5	12	17

Plusaufgaben mit 3, 4 und 5 (Lösungen)

Rechne die Aufgaben aus und schreibe die Lösungen auf! Male rechts die Felder mit den Lösungszahlen farbig aus!

1 → 3



3

+	3	11	14

2

+	5	12	17

5

+	3	11	14

6

+	5	10	15


8

+	4	12	16

9

+	4	10	15

7 → 12



9

+	4	10	14

8

+	5	15	20

9

+	4	10	14

12

+	3	12	15

11

+	4	15	19

12

+	3	12	15

Klasse

Name

Minusaufgaben mit 3, 4 und 5

Rechne die Aufgaben aus und schreibe die Lösungen auf! Verbinde links die Aufgabennummern mit den Lösungszahlen!

1	17-3=	14	20-5=
2	16-4=		19-3=
3	18-5=		15-4=
4	20-4=		17-5=
5	14-3=		14-4=
6	19-5=		19-5=
7	20-4=		17-5=
8	14-3=		14-4=
9	19-5=		16-3=
10	17-3=		14-4=
11	16-4=		19-5=
12	18-5=		16-3=

Klasse

Minusaufgaben mit 3, 4 und 5

Rechne die Aufgaben aus und schreibe die Lösungen auf! Verbinde rechts die Aufgabennummern mit den Lösungszahlen!

1	17-5=	12
2	16-3=	10
3	20-4=	16
4	19-5=	13
5	14-4=	15
6	20-5=	15
7	15-4=	14
8	17-3=	11
9	19-3=	12
10	18-5=	13
11	16-4=	14
12	18-5=	16

Klasse

Name

Klasse

Minusaufgaben mit 3, 4 und 5 (Lösungen)

Rechne die Aufgaben aus und schreibe die Lösungen auf! Verbinde links die Aufgabennummern mit den Lösungszahlen!

1	17-3=14	2	20-5=15
3	16-4=12	4	19-3=16
6	18-5=13	8	15-4=11
7	20-4=16	9	17-5=12
9	14-3=11	10	14-4=10
10	19-5=14	12	16-3=13

1	12
2	15
3	14
4	11
5	13
6	16

1	12
2	10
3	14
4	12
5	11
6	13
7	16

© Michael Jung, Braunschweig 2010

Minusaufgaben mit 3, 4 und 5 (Lösungen)

Rechne die Aufgaben aus und schreibe die Lösungen auf! Verbinde rechts die Aufgabennummern mit den Lösungszahlen!

1	17-5=12	2	18-3=15
3	16-3=13	4	20-4=16
6	14-4=10	8	19-5=14
7	20-5=15	9	16-4=12
9	15-4=11	10	17-3=14
11	19-3=16	12	18-5=13

1	12
2	10
3	16
4	13
5	15
6	14

7	15
8	14
9	11
10	12
11	13
12	16

© Michael Jung, Braunschweig 2010

Klasse

Name

Plus- und Minusaufgaben mit 3, 4 und 5

Rechne die Aufgaben aus und schreibe die Lösungen auf! Kreuze links die Lösungszahlen an!

1 → 3

20

18 14 16

13 ~~X~~ 12

19 17 11

10

→ 12

18

17 15

12 19

11 14

20

1

$12 + 3 = 15$

3

$16 - 5 =$

5

$15 + 4 =$

7

$16 - 3 =$

9

$13 + 5 =$

10

$18 - 4 =$

2

$16 + 4 =$

4

$17 - 3 =$

6

$12 + 5 =$

8

$19 - 4 =$

10

$13 + 3 =$

12

$17 - 5 =$

Plus- und Minusaufgaben mit 3, 4 und 5

Rechne die Aufgaben aus und schreibe die Lösungen auf! Kreuze rechts die Lösungszahlen an!

1

$12 + 4 = 16$

3

$13 - 3 =$

5

$15 + 5 =$

7

$20 - 4 =$

9

$17 + 3 =$

11

$20 - 5 =$

2

$16 + 3 =$

4

$19 - 5 =$

6

$14 + 4 =$

8

$14 - 3 =$

10

$13 + 5 =$

12

$17 - 4 =$

1 → 3

13

14 18 10

11 ~~X~~ 17

15 20 12

19

7 → 12

10

11 14 18

13 15 16

19 20 12

17

Klasse

Name

Plus- und Minusaufgaben mit 3, 4 und 5 (L)

Rechne die Aufgaben aus und schreibe die Lösungen auf! Kreuze links die Lösungszahlen an!

1 → 3

<input checked="" type="checkbox"/>	18	<input checked="" type="checkbox"/>	16
<input checked="" type="checkbox"/>	13	<input checked="" type="checkbox"/>	12
<input checked="" type="checkbox"/>	<input checked="" type="checkbox"/>	<input checked="" type="checkbox"/>	<input checked="" type="checkbox"/>
	10		

1

$12 + 3 = 15$

3

$16 - 5 = 11$

5

$15 + 4 = 19$

7

$16 - 3 = 13$

9

$13 + 5 = 18$

10

$18 - 4 = 14$

2

$16 + 4 = 20$

4

$17 - 3 = 14$

6

$12 + 5 = 17$

8

$19 - 4 = 15$

10

$13 + 3 = 16$

12

$17 - 5 = 12$

© Michael Jung, Braunschweig 2010

Klasse

Plus- und Minusaufgaben mit 3, 4 und 5 (L)

Rechne die Aufgaben aus und schreibe die Lösungen auf! Kreuze rechts die Lösungszahlen an!

1

$12 + 4 = 16$

3

$13 - 3 = 10$

5

$15 + 5 = 20$

7

$20 - 4 = 16$

9

$17 + 3 = 20$

10

$20 - 5 = 15$

2

$16 + 3 = 19$

4

$19 - 5 = 14$

6

$14 + 4 = 18$

8

$14 - 3 = 11$

10

$13 + 5 = 18$

12

$17 - 4 = 13$

1 → 3

<input checked="" type="checkbox"/>	<input checked="" type="checkbox"/>	<input checked="" type="checkbox"/>	13
<input checked="" type="checkbox"/>	<input checked="" type="checkbox"/>	<input checked="" type="checkbox"/>	11
<input checked="" type="checkbox"/>	<input checked="" type="checkbox"/>	<input checked="" type="checkbox"/>	15
			17
			12

7 → 13

<input checked="" type="checkbox"/>	<input checked="" type="checkbox"/>	<input checked="" type="checkbox"/>	10
<input checked="" type="checkbox"/>	<input checked="" type="checkbox"/>	<input checked="" type="checkbox"/>	14
<input checked="" type="checkbox"/>	<input checked="" type="checkbox"/>	<input checked="" type="checkbox"/>	19
			12
			17

© Michael Jung, Braunschweig 2010

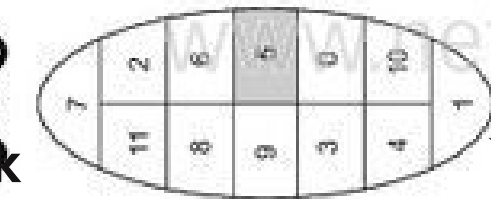
Klasse

Name

Plusaufgaben mit 20

Rechne die Aufgaben aus und schreibe die Lösungen auf! Male links die Felder mit den Lösungszahlen farbig aus!

1 → 3



1

+	5	
		15 20

2

+		
		12 20

3

+		
		17 20

4

+		
		20 20


5

+		
		14 20

6

+		
		11 20

7 → 12



7

+		
		19 20

8

+		
		10 20

9

+		
		16 20

10

+		
		13 20

11

+		
		18 20

12


+		
		15 20

© Michael Jung, Braunschweig 2010

Plusaufgaben mit 20

Rechne die Aufgaben aus und schreibe die Lösungen auf! Male rechts die Felder mit den Lösungszahlen farbig aus!

1 → 3



5

+		
		15 20

2

+		
		19 20

6

+		
		18 20


3

+		
		10 20

9

+		
		14 20

7 → 12



9

+		
		14 20

8

+		
		12 20

12

+		
		16 20

11

+		
		11 20

12


+		
		16 20

© Michael Jung, Braunschweig 2010

Plusaufgaben mit 20 (Lösungen)

Rechne die Aufgaben aus und schreibe die Lösungen auf! Male links die Felder mit den Lösungszahlen farbig aus!

1 → 3



$$\begin{array}{r} 1 \\ + 5 \\ \hline 15 \end{array} \quad \begin{array}{r} 20 \\ 20 \\ \hline 20 \end{array}$$

$$\begin{array}{r} 2 \\ + 8 \\ \hline 12 \end{array} \quad \begin{array}{r} 20 \\ 20 \\ \hline 20 \end{array}$$


$$\begin{array}{r} 3 \\ + 3 \\ \hline 17 \end{array} \quad \begin{array}{r} 20 \\ 20 \\ \hline 20 \end{array}$$

$$\begin{array}{r} 4 \\ + 0 \\ \hline 20 \end{array} \quad \begin{array}{r} 20 \\ 20 \\ \hline 20 \end{array}$$

$$\begin{array}{r} 5 \\ + 6 \\ \hline 14 \end{array} \quad \begin{array}{r} 20 \\ 20 \\ \hline 20 \end{array}$$

$$\begin{array}{r} 6 \\ + 9 \\ \hline 11 \end{array} \quad \begin{array}{r} 20 \\ 20 \\ \hline 20 \end{array}$$

7 → 12



$$\begin{array}{r} 7 \\ + 1 \\ \hline 19 \end{array} \quad \begin{array}{r} 20 \\ 20 \\ \hline 20 \end{array}$$

$$\begin{array}{r} 8 \\ + 10 \\ \hline 10 \end{array} \quad \begin{array}{r} 20 \\ 20 \\ \hline 20 \end{array}$$

$$\begin{array}{r} 9 \\ + 4 \\ \hline 16 \end{array} \quad \begin{array}{r} 20 \\ 20 \\ \hline 20 \end{array}$$

$$\begin{array}{r} 10 \\ + 7 \\ \hline 13 \end{array} \quad \begin{array}{r} 20 \\ 20 \\ \hline 20 \end{array}$$

$$\begin{array}{r} 11 \\ + 2 \\ \hline 18 \end{array} \quad \begin{array}{r} 20 \\ 20 \\ \hline 20 \end{array}$$


$$\begin{array}{r} 12 \\ + 5 \\ \hline 15 \end{array} \quad \begin{array}{r} 20 \\ 20 \\ \hline 20 \end{array}$$

© Michael Jung, Braunschweig 2010

Plusaufgaben mit 20 (Lösungen)

Rechne die Aufgaben aus und schreibe die Lösungen auf! Male rechts die Felder mit den Lösungszahlen farbig aus!

1 → 3



$$\begin{array}{r} 1 \\ + 4 \\ \hline 16 \end{array} \quad \begin{array}{r} 20 \\ 20 \\ \hline 20 \end{array}$$

$$\begin{array}{r} 2 \\ + 1 \\ \hline 19 \end{array} \quad \begin{array}{r} 20 \\ 20 \\ \hline 20 \end{array}$$


$$\begin{array}{r} 3 \\ + 5 \\ \hline 15 \end{array} \quad \begin{array}{r} 20 \\ 20 \\ \hline 20 \end{array}$$

$$\begin{array}{r} 4 \\ + 7 \\ \hline 13 \end{array} \quad \begin{array}{r} 20 \\ 20 \\ \hline 20 \end{array}$$

$$\begin{array}{r} 5 \\ + 10 \\ \hline 10 \end{array} \quad \begin{array}{r} 20 \\ 20 \\ \hline 20 \end{array}$$

$$\begin{array}{r} 6 \\ + 2 \\ \hline 18 \end{array} \quad \begin{array}{r} 20 \\ 20 \\ \hline 20 \end{array}$$

7 → 12



$$\begin{array}{r} 7 \\ + 3 \\ \hline 17 \end{array} \quad \begin{array}{r} 20 \\ 20 \\ \hline 20 \end{array}$$

$$\begin{array}{r} 8 \\ + 8 \\ \hline 12 \end{array} \quad \begin{array}{r} 20 \\ 20 \\ \hline 20 \end{array}$$

$$\begin{array}{r} 9 \\ + 6 \\ \hline 14 \end{array} \quad \begin{array}{r} 20 \\ 20 \\ \hline 20 \end{array}$$

$$\begin{array}{r} 10 \\ + 0 \\ \hline 20 \end{array} \quad \begin{array}{r} 20 \\ 20 \\ \hline 20 \end{array}$$

$$\begin{array}{r} 11 \\ + 9 \\ \hline 11 \end{array} \quad \begin{array}{r} 20 \\ 20 \\ \hline 20 \end{array}$$

$$\begin{array}{r} 12 \\ + 4 \\ \hline 16 \end{array} \quad \begin{array}{r} 20 \\ 20 \\ \hline 20 \end{array}$$

© Michael Jung, Braunschweig 2010



Klasse

Name

Klasse

Minusaufgaben mit 20

Rechne die Aufgaben aus und schreibe die Lösungen auf! Verbinde links die Aufgabennummern mit den Lösungszahlen!

1 → 8
 2 → 12
 3 → 9
 4 → 1
 5 → 7
 6 → 6
 7 → 10
 8 → 3
 9 → 5
 10 → 4

1 $20 - 6 = 14$ 20 - = 11
 2 $20 - 6 = 14$ 20 - = 11
 3 $20 - \text{ } = 20$ 20 - = 18
 4 $20 - \text{ } = 20$ 20 - = 18
 5 $20 - \text{ } = 10$ 20 - = 16
 6 $20 - \text{ } = 10$ 20 - = 16
 7 $20 - \text{ } = 19$ 20 - = 12
 8 $20 - \text{ } = 19$ 20 - = 12
 9 $20 - \text{ } = 17$ 20 - = 15
 10 $20 - \text{ } = 13$ 20 - = 14
 11 $20 - \text{ } = 13$ 20 - = 14

© Michael Jung, Braunschweig 2010

Minusaufgaben mit 20

Rechne die Aufgaben aus und schreibe die Lösungen auf! Verbinde rechts die Aufgabennummern mit den Lösungszahlen!

1 → 3
 2 → 10
 3 → 6
 4 → 2
 5 → 0
 6 → 10
 7 → 12
 8 → 4
 9 → 0
 10 → 10
 11 → 4
 12 → 9

1 $20 - 4 = 16$ 20 - = 12
 2 $20 - 4 = 16$ 20 - = 12
 3 $20 - \text{ } = 19$ 20 - = 17
 4 $20 - \text{ } = 19$ 20 - = 17
 5 $20 - \text{ } = 13$ 20 - = 15
 6 $20 - \text{ } = 13$ 20 - = 15
 7 $20 - \text{ } = 18$ 20 - = 20
 8 $20 - \text{ } = 18$ 20 - = 20
 9 $20 - \text{ } = 10$ 20 - = 14
 10 $20 - \text{ } = 10$ 20 - = 14
 11 $20 - \text{ } = 11$ 20 - = 16
 12 $20 - \text{ } = 11$ 20 - = 16

© Michael Jung, Braunschweig 2010



Klasse

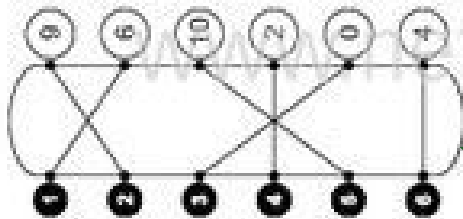
Name

Klasse

Minusaufgaben mit 20 (Lösungen)

Rechne die Aufgaben aus und schreibe die Lösungen auf! Verbinde links die Aufgabennummern mit den Lösungszahlen!

10 → 3



2

$20 - 6 = 14$

3

$20 - 0 = 20$

6

$20 - 10 = 10$

7

$20 - 1 = 19$

9

$20 - 3 = 17$

12

$20 - 7 = 13$

8

$20 - 9 = 11$

1

$20 - 4 = 16$

3

$20 - 1 = 19$

6

$20 - 7 = 13$

7

$20 - 2 = 18$

9

$20 - 10 = 10$

11

$20 - 9 = 11$

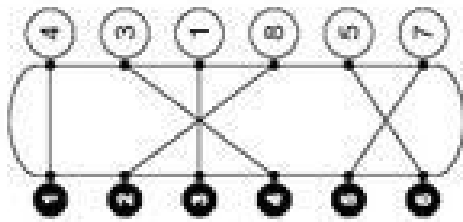
12

$20 - 4 = 16$

Minusaufgaben mit 20 (Lösungen)

Rechne die Aufgaben aus und schreibe die Lösungen auf! Verbinde rechts die Aufgabennummern mit den Lösungszahlen!

1 → 3



2

$20 - 8 = 12$

4

$20 - 3 = 17$

6

$20 - 5 = 15$

8

$20 - 0 = 20$

10

$20 - 6 = 14$

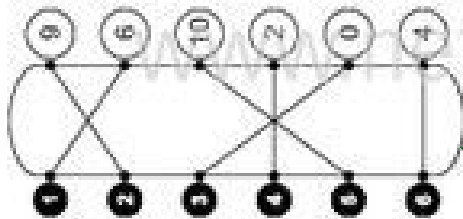
12

$20 - 4 = 16$

10

$20 - 2 = 18$

10 → 12



Plus- und Minusaufgaben mit 20

Rechne die Aufgaben aus und schreibe die Lösungen auf! Kreuze links die Lösungszahlen an!

1 → 3

5
4 6 7
10 X 2
9 8 3
0

1

$19 + 1 = 20$ $20 - \bigcirc = 11$

3

$20 - \bigcirc = 17$ $14 + \bigcirc = 20$

5

$20 + \bigcirc = 20$ $20 - \bigcirc = 12$

→ 12

9
4 2
1 8
0 10
3

7

$20 - \bigcirc = 10$ $15 + \bigcirc = 20$

9

$11 + \bigcirc = 20$ $20 - \bigcirc = 18$

10

$20 - \bigcirc = 13$ $16 + \bigcirc = 20$

Plus- und Minusaufgaben mit 20

Rechne die Aufgaben aus und schreibe die Lösungen auf! Kreuze rechts die Lösungszahlen an!

1

$10 + 10 = 20$ $20 - \bigcirc = 16$

3

$20 - \bigcirc = 12$ $18 + \bigcirc = 20$

5

$13 + \bigcirc = 20$ $20 - \bigcirc = 20$

7

$20 - \bigcirc = 14$ $11 + \bigcirc = 20$

9

$17 + \bigcirc = 20$ $20 - \bigcirc = 19$

11

$20 - \bigcirc = 15$ $12 + \bigcirc = 20$

1 → 3

7
X 6 8
1 2 5
0 9 4
3

7 → 12

7
2 3 10
1 8 9
0 6 4
5